

二年级数学表内除法练习题（一）

姓名：_____ 得分：_____

一、填空。

(1) $45 \div 5 = 9$ 表示把()平均分成()份，每份是()；还表示()里有()个()；也表示45是()的()倍。

(2) $6 \times 8 = 48$ 表示()个()相加得48；还表示8的()倍是48。

(3) 8的2倍是()，8是2的()倍。

(4) 两个因数都是7，积是()；被除数和除数同样多，商是()。

(5) 黑羊36只，白羊9只，()羊的只数是()羊的()倍。

(6) 按要求写算式。8、9、72

() \times () = ()， () \div () = ()，

() \times () = ()， () \div () = ()

二、列式计算。

(1) 5个9相加是多少？

(2) 把63平均分成7份，每份是多少？

(3) 32里面有几个8？

(4) 把41按照每5个一份来分，可以分成多少份？

(5) 6的8倍是多少？

(6) 54是9的多少倍？

(7) 一个因数是9，另一个因数是8，积是多少？

(8) 被除数是 36，除数是 9，商是多少？

三、解答应用题。

(1) 有 32 个同学排队，每 4 个同学站一排，可以站几排？

(2) 小红买了 5 本书，每本书 6 元。她一共用了多少元？

(3) 老师买了 48 根跳绳，平均分给 6 个班，每个班分几根？

(4) 生物小组有 6 只黑兔，18 只白兔。白兔的只数是黑兔的几倍？

(5) 田径队的人数是舞蹈队的 4 倍。舞蹈队有 9 人，田径队有多少人？

(6) 体育室里有一筐皮球，每班发给 6 个。5 个班领走后，这筐皮球减少了多少个？

(7) 红花的朵数是黄花的 3 倍。红花有 18 朵，黄花有多少朵？

(8) 一、二年级有 6 个班，每个班有 4 人参加舞蹈组，一共有多少人？后来，舞蹈组增加了 10 人，现在舞蹈组有多少人？

(9) 刘红要做 72 面小旗，每天做 8 面，多少天可完成？如果每天做 9 面几天可完成？

(10) 有 30 米布，做床单用了 12 米，还剩下几米？做一套衣服要用 3 米布，剩下的布能做几套衣服。

二年级数学表内除法练习题(二)

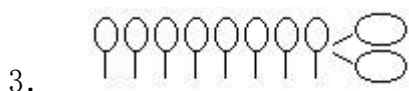
班级：_____ 姓名：_____

一、填空。

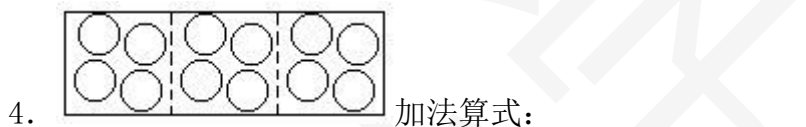
1. 把10个○平均分成5份，每份是()个。

列出算式：() ÷ () = ()。

2. $24 \div 4 = ()$ 读作()除以()，表示把()平均分成()份，每份是()，也就是()里面有()个()。



算式：() ÷ () = () 表示：把()平均分成()份，每一份是()。



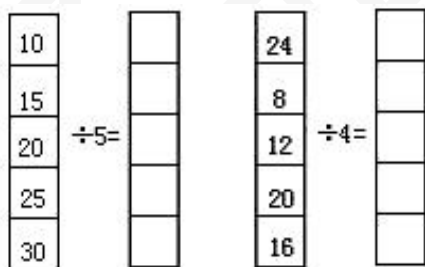
乘法算式：_____ 除法算式：_____

5. 把8个▲平均分成4份，每份几个？ $8 \div () = ()$

把8个▲平均分成2份，每份几个？ $8 \div () = ()$

6. $15 \div 5 = 3$ 表示把()平均分成()份，每份是()。

7.



被除数	8	15	24	10	18	16
除数	2	3	6	5	3	4
商						

8. $4 \times 5 = 20$

$20 \div 5 = 4$

想：(四)五二十，商是4。

$20 \div 4 = ()$

想：四()二十，商是()。

9. $12 \div 2 = ()$ 想：二()十二，商是()。

$12 \div 6 = ()$

想：()六十二，商是()。

不想每次到处找资料，可添加张老师微信：[862325](https://www.duopin.cn)

$24 \div 4 = (\quad)$ 想：四(\quad)二十四，商是(\quad)。

$24 \div 6 = (\quad)$ 想：(\quad)六二十四，商是(\quad)。

10. 在(\quad)里填上“ $>$ ”、“ $<$ ”或“ $=$ ”。

$5 (\quad) 20 \div 5$ $30 \div 6 (\quad) 6$ $40 (\quad) 6 \times 5$

$12 \div 3 (\quad) 5$ $6 (\quad) 36 \div 6$ $20 (\quad) 4 \times 5$

二、口算：

$4 \times 2 =$ $4 \times 3 =$ $5 \times 2 =$ $8 \div 2 =$ $12 \div 3 =$ $10 \div 5 =$

$8 \div 4 =$ $12 \div 4 =$ $10 \div 2 =$ $3 \div 3 =$ $4 \div 2 =$ $8 \div 4 =$

$12 \div 6 =$ $12 \div 2 =$ $12 \div 4 =$ $9 \div 9 =$ $6 \div 3 =$ $10 \div 2 =$

$12 \div 3 =$ $9 \div 3 =$ $6 \div 6 =$ $24 \div 6 =$ $30 \div 5 =$ $16 \div 4 =$

$3 \times 4 =$ $5 \times 5 =$ $6 \times 6 =$ $12 \div 4 =$ $25 \div 5 =$ $36 \div 6 =$

$3 \times 2 =$ $2 \times 5 =$ $3 \times 4 =$ $6 \div 2 =$ $10 \div 2 =$ $12 \div 3 =$

$6 \div 3 =$ $10 \div 5 =$ $12 \div 4 =$ $5 \times 3 =$ $5 \times 6 =$ $6 \times 4 =$

$15 \div 3 =$ $30 \div 6 =$ $24 \div 4 =$ $15 \div 5 =$ $30 \div 5 =$ $24 \div 6 =$

三、列式计算

1、24 里面有几个 4？

2、被除数是 15，除数是 3，商是多少？

3、18 除以 6 等于多少？

4、把 20 平均分成 4 份，每份是多少？

四、解决问题：中心商店第一天卖出洗衣机 42 台，是第二天卖出台数的 6 倍。

第二天卖出多少台？

二年级数学表内除法练习题(三)

姓名：_____ 得分：_____

一、填空题。(21分)

1、算式 $10 \div 5 = 2$ 读作 ()，除数是 ()，被除数是 ()，商是 ()。

2、有 12 个 \triangle ，每 3 个一份，可以分成 () 份，算式是 ()。

3、 $20 \div 5 = 4$ ，表示把 () 平均分成 () 份，每份是 ()；
还表示 20 里面有 () 个 ()。

4、在 \bigcirc 里填上 “>”、“<”、“=”。

$3 \times 3 \bigcirc 6$

$5 + 6 \bigcirc 5 \times 6$

$1 \times 1 \bigcirc 1 + 1$

$8 \div 2 \bigcirc 2 \times 2$

$24 \div 4 \bigcirc 24 \div 6$

$16 \div 4 \bigcirc 4 \times 4$

5、先补全口诀，再根据口诀写出两个除法算式。

三六 () () 五得五 四 () 二十四 五六 ()

二、在括号里填上适当的数。(12分)

$() \times 5 = 20$

$6 \times () = 18$

$65 + () = 93$

$49 - () = 15$

$16 \div () = 4$

$() \div 3 = 4$

$() \times 1 = 6$

$() \times 2 = 2$

$() \div 5 = 1$

$3 \times () = 9$

$20 \div () = 5$

$() \times 4 = 8$

三、列式计算。(12分)

(1) 被除数是 24，除数是 6，商是多少？

(2) 把 12 平均分成 3 份，每份是多少？

(3) 20 里面有几个 5？

(4) 除数是 2，被除数是 10，商是几？

四、看图写出一道乘法和一道除法算式。(6分)

1、 $\bigcirc\bigcirc$

$\bigcirc\bigcirc$

$\bigcirc\bigcirc$

$\square \times \square = \square$

$\square \div \square = \square$

\bigcirc

\bigcirc

\bigcirc

$\square \times \square = \square$

$\square \div \square = \square$

$\bigcirc\bigcirc\bigcirc$

$\bigcirc\bigcirc\bigcirc$

$\square \times \square = \square$

$\square \div \square = \square$

2、 $\triangle\triangle\triangle$

$\triangle\triangle\triangle$

$\triangle\triangle\triangle$

$\square \times \square = \square$

$\square \div \square = \square$

$\triangle\triangle$

$\triangle\triangle$

$\triangle\triangle$

$\triangle\triangle$

$\square \times \square = \square$

$\square \div \square = \square$

3、 \star

\star

\star

\star

$\square \times \square = \square$

$\square \div \square = \square$

$\star\star$

$\star\star$

$\star\star$

$\star\star$

$\square \times \square = \square$

$\square \div \square = \square$

五、你有几种不同的填法。(共 8 分)

$() \div () = 4$

$() \div () = 6$

$() \div () = 4$

$() \div () = 6$

$() \div () = 4$

$() \div () = 6$

$() \div () = 4$

$() \div () = 6$

六、把表格填完整。(12分)

因数	6	5	2	6	2	6
因数	3	2	4	6	6	4
积						

被除数	30	15	12	16	6	18
除数	5	5	6	4	1	6
商						

七、你能解决下列问题吗？（第1题9分，其余每题4分）

1、把条件和问题连起来，再解答。

①15个羽毛球，平均分给5个班。

一共分了几个小皮球？

②18个乒乓球，每班分3个。

每个班分得几个？

③每班分6个小皮球，分给5个班。

能分给几个班？

解答：①

②

③

2、有12个小朋友参加跳绳比赛，4个人一组，可以分成几组？

3、有20个皮球。

(1) 平均分给5个班，每个班分几个？

(2) 每个班分4个，可以分给几个班？

4、30个同学平均分成5组去浇树，每组有几个同学？

4、30个同学平均分成5组去浇树，每组有几个同学？

校买来4包书，每包6本，把这些书平均分给3个班，每个班分几本？

6、3张纸可以做15朵花，6张纸可以做多少朵花？

二年级数学表内除法练习题(四)

姓名：_____ 得分：_____

一、计算。

$$\begin{array}{llll} 1、9\div 3 = & 6\times 4 = & 4\times 5 = & 5\times 6 = \\ 5\times 5 = & 24\div 6 = & 15\div 3 = & 10\div 2 = \\ 68-30 = & 32-9 = & 30\div 5 = & 85-70 = \\ 12\div 6 = & 20\div 5 = & 17+13 = & 24\div 4 = \end{array}$$

2、在()里填上合适的数。

$$\begin{array}{llll} ()\times 3 = 18 & 18\div 3 = 12\div () & 2\times 4 = 16\div () \\ 12\div () = 2 & 30\div 6 = 20\div () & 4\times () = 6\times 2 \\ ()\div 9 = 3 & 3\div () = 4\div 4 & 9\div () = 18\div 6 \\ 6 = ()\div () = ()\times () = () - () = () + () \end{array}$$

3、在○里填上“+”、“-”、“×”或“÷”。

$$\begin{array}{llll} 4\bigcirc 4 = 16 & 18\bigcirc 7 = 25 & 5\bigcirc 5 = 2\bigcirc 5 & 2\bigcirc 5 = 10 \\ 10\bigcirc 2 = 5 & 3\bigcirc 5 = 15 & 4\bigcirc 3 = 2\bigcirc 6 & 30\bigcirc 6 = 24 \\ 7\bigcirc 7 = 1 & 24\bigcirc 6 = 4 & 3\bigcirc 3 = 18\bigcirc 2 & 5\bigcirc 1 = 25\bigcirc 5 \end{array}$$

4、配钥匙、连线。

$$\begin{array}{lll} 30\div 6 & 四五() & 18\div 2 \\ 20\div 4 & 二九() & 30\div 5 \\ 18\div 9 & 五六() & 20\div 5 \end{array}$$

5、用卡片上的数写出所学过的除法算式。(能写几个就写几个)。

20	6	2	18	12	9	4	5	3	30
----	---	---	----	----	---	---	---	---	----

6、列式计算。

(1) 把 30 平均分成 5 份，每份是多少？

(2) 24 里有几个 6？

(3) 9 的 2 倍是多少？

(4) 5 个 5 相加是多少？

二、解决问题。

1、有 30 个笔记本，每 6 个笔记本放在一个盒子里，需要多少个盒子？

2、把 15 个胡萝卜平均分给 5 只小兔，每只小兔有几个？

3、张玲得了 16 朵红花，李芳得了 8 朵红花，张玲的红花数是李芳的多少倍？

4、四个小组的同学去栽树，每组有 6 人，一共有多少人？

5、商店里有 4 盒皮球，每盒 6 个。卖出 18 个，还剩多少个？

6、小红 4 天做了 16 道口算题，照这样计算，剩下的 20 题需要几天可以做完？

7、小宁带了 100 元去买文具，想买一个书包和一个笔盒。他带的钱够吗？



54 元



35 元

8、一辆小汽车可以坐 4 人，一辆面包车上坐的人数是小汽车的 3 倍，一辆小汽车和一辆面包车一共可以坐多少人？

9、一条绳子 15 米，把它剪成 3 米一段的小绳子，最多能剪多少段？需要剪多少次？如果剪一次要 2 分钟，一共要用几分钟才能剪完？

二年级数学表内除法练习题(五)

姓名：_____ 得分：_____

一、直接写出得数。

$$\begin{array}{cccccc} 32 \div 8 = & 54 + 26 = & 40 - 23 = & 3 \times 7 = & 83 - 60 = & \\ 24 + 37 = & 9 \times 2 = & 55 + 14 = & 61 - 34 = & 35 \div 7 = & \\ 6 \times 8 = & 87 - 63 = & 63 \div 9 = & 56 \div 8 = & 75 + 15 = & \\ 65 - 28 = & 21 \div 3 = & 5 \times 7 = & 30 + 48 = & 6 \times 6 = & \end{array}$$

二、想一想，选择合适答案的序号填在()里。

- 被除数是54，商是6，除数是9，求商列式是()。
(1) $54 \div 6$ (2) $54 \div 9$ (3) 6×9
- 求6个7相加是多少，列式是()。
(1) $6 - 7$ (2) 7×6 (3) $6 + 6 + 6 + 6 + 6 + 6 + 6 + 6$
- 钢笔每支8元，圆珠笔每支2元，钢笔和价钱是圆珠笔价钱的多少倍？这题是求()。
(1) 8和2倍是多少 (2) 把8平均分成2份，每份是多少 (3) 8是2的多少倍
- 一个因数是12，另一个因数是4，积是多少？列式是()。
(1) 12×4 (2) $12 \div 4$ (3) $12 + 4$
- $8 + 8$ ○ 8×2 (1) > (2) < (3) =
- 每两个男生之间站一名女生，6个男生之间站()个女生。
(1) 6 (2) 5 (3) 3

三、想一想，填一填。

- 36是4的()倍，是6的()倍。
- $72 \div 8 =$ ()，想口诀()。
- 把18连续减去3，()次减完。
- 把42本练习簿，平均分给7个同学，每人分得()本。]
- 32里面有()个4。
- 从35里面减去()个5，结果是5。
- 妈妈买来48支花，每6支扎成一束，可以扎()束。
- 一个数的7倍是56，这个数是()。

四、想一想，()里最大能填几。

$$\begin{array}{ccc} 8 \times () < 36 & 5 \times () < 5 & 6 \times () < 40 \\ 54 > () \times 8 & 12 > () \times 3 & 28 > () \times 7 \end{array}$$

五、连线

38 6 72 45

$$40 \div 5 \times 9 \qquad 80 - 7 \times 6 \qquad 17 + 4 \times 7 \qquad 4 \times 9 \div 6$$

六、很快算出下面各题。

$$\begin{array}{cccc} 18 \div 3 \times 9 & 54 \div 9 \times 7 & 34 + 6 \times 8 & 70 - 3 \times 6 \\ = & = & = & = \\ = & = & = & = \end{array}$$

$$45+63\div 9$$

=

=

$$6\times 7-32$$

=

=

$$56\div 8+29$$

=

=

$$6\times 6\div 4$$

=

=

七、解决问题。

1、足球

36 元/个

乒乓球拍

18 元/副

羽毛球

6 元/个

乒乓球

4 元/个

(1) 买 8 个羽毛球要多少钱？

(2) 一个足球的价钱是一个乒乓球价钱的多少倍？

(3) 买 2 副乒乓拍的钱可以买几个羽毛球？

(4) 你还能提出哪些数学问题？

2、二（C）班同学参加学校竞赛。一等奖的奖品是 40 本故事书，二等奖的奖品是 48 本练习簿。比赛结果一等奖有 5 人，二等奖有 8 人。

(1) 一等奖的同学每人可得多少本故事书？

(2) 你还能提出哪些数学问题？

3、(1) 我们有 20 元，太空船票每张 4 元，能买几张太空船票？

(2) 电动火车票每张 2 元，我们 9 个同学一起玩电动火车 2 次，一共要多少钱？

4、小浪花和 4 个同学去公园玩，共花了 20 元买门票，平均每张门票多少元？

不想每次到处找资料，可添加张老师微信：862325

二年级数学表内除法练习题(六)

姓名：_____ 得分：_____

一、计算。

1、 $9 \div 3 =$ $6 \times 4 =$ $4 \times 5 =$ $5 \times 6 =$

$5 \times 5 =$ $24 \div 6 =$ $15 \div 3 =$ $10 \div 2 =$

$68 - 30 =$ $32 - 9 =$ $30 \div 5 =$ $85 - 70 =$

$12 \div 6 =$ $20 \div 5 =$ $17 + 13 =$ $24 \div 4 =$

2、在 () 里填上合适的数。

() $\times 3 = 18$ $18 \div 3 = 12 \div ()$ $2 \times 4 = 16 \div ()$

$12 \div () = 2$ $30 \div 6 = 20 \div ()$ $4 \times () = 6 \times 2$

() $\div 9 = 3$ $3 \div () = 4 \div 4$ $9 \div () = 18 \div 6$

$6 = () \div () = () \times () = () - () = () + ()$

3、在○里填上“+”、“-”、“ \times ”或“ \div ”。

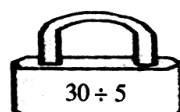
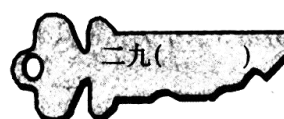
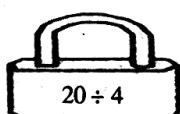
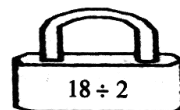
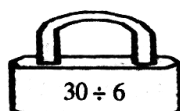
$4 \bigcirc 4 = 16$ $18 \bigcirc 7 = 25$ $5 \bigcirc 5 = 2 \bigcirc 5$

$10 \bigcirc 2 = 5$ $3 \bigcirc 5 = 15$ $4 \bigcirc 3 = 2 \bigcirc 6$

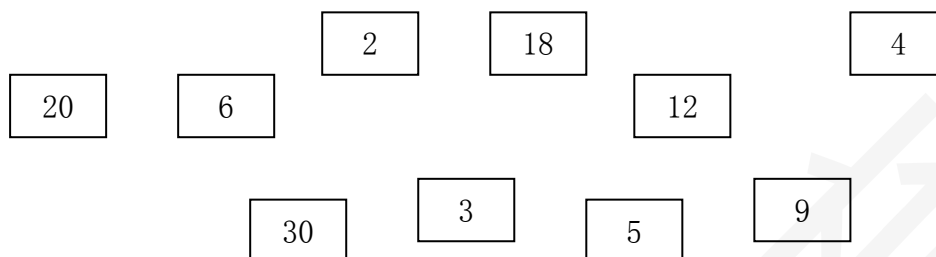
$7 \bigcirc 7 = 1$ $24 \bigcirc 6 = 4$ $3 \bigcirc 3 = 18 \bigcirc 2$

$30 \bigcirc 6 = 24$ $2 \bigcirc 5 = 10$ $5 \bigcirc 1 = 25 \bigcirc 5$

4、配钥匙、连线。



5、用卡片上的数写出所学过的除法算式。（能写几个就写几个）。



6、列式计算。

(1) 把 30 平均分成 5 份，每份是多少？

(2) 24 里有几个 6？

(3) 9 的 2 倍是多少？

(4) 5 个 5 相加是多少？

二、解决问题。

1、有 30 个笔记本，每 6 个笔记本放在一个盒子里，需要多少个盒子？

- 2、把 15 个胡萝卜平均分给 5 只小兔，每只小兔有几个？
- 3、张玲得了 16 朵红花，李芳得了 8 朵红花，张玲的红花数是李芳的多少倍？
- 4、四个小组的同学去栽树，每组有 6 人，一共有多少人？
- 5、商店里有 4 盒皮球，每盒 6 个。卖出 18 个，还剩多少个？
- 6、小红 4 天做了 16 道口算题，照这样计算，剩下的 20 题需要几天可以做完？
- 7、小宁带了 100 元去买文具，想买一个书包和一个笔盒。他带的钱够吗？



54 元



35 元

- 8、一辆小汽车可以坐 4 人，一辆面包车上坐的人数是小汽车的 3 倍，一辆小汽车和一辆面包车一共可以坐多少人？

- 9、一条绳子 15 米，把它剪成 3 米一段的小绳子，最多能剪多少段？需要剪多少次？如果剪一次要 2 分钟，一共要用几分钟才能剪完？

二年级数学表内除法练习题(七)

姓名：_____ 得分：_____

一. 填空题。(21 分)

- 1、算式 $10 \div 5 = 2$ 读作 ()，除数是 ()，被除数是 ()，商是 ()。
- 2、有 12 个 \triangle ，每 3 个一份，可以分成 () 份，算式是 ()。
- 3、 $20 \div 5 = 4$ ，表示把 () 平均分成 () 份，每份是 ()；还表示 20 里面有 () 个 ()。
- 4、在 \bigcirc 里填上 “ $>$ ”、“ $<$ ”、“ $=$ ”。
- | | | |
|--------------------------------|--------------------------------|---------------------------------|
| $3 \times 3 \bigcirc 6$ | $5 + 6 \bigcirc 5 \times 6$ | $1 \times 1 \bigcirc 1 + 1$ |
| $8 \div 2 \bigcirc 2 \times 2$ | $24 \div 4 \bigcirc 24 \div 6$ | $16 \div 4 \bigcirc 4 \times 4$ |
- 5、先补全口诀，再根据口诀写出两个除法算式。
- 三六() ()五得五 四()二十四 五六()

二、在括号里填上适当的数。(12分)

$() \times 5 = 20$	$6 \times () = 18$	$65 + () = 93$
$49 - () = 15$	$16 \div () = 4$	$() \div 3 = 4$
$() \times 1 = 6$	$() \times 2 = 2$	$() \div 5 = 1$
$3 \times () = 9$	$20 \div () = 5$	$() \times 4 = 8$

二、列式计算。(12分)

- (1) 被除数是 24，除数是 6，商是多少？
- (2) 把 12 平均分成 3 份，每份是多少？
- (3) 20 里面有几个 5？
- (4) 除数是 2，被除数是 10，商是几？

三、看图写出一道乘法和一道除法算式。(6分)

1、 $\bigcirc \bigcirc \quad \bigcirc \bigcirc \quad \bigcirc \bigcirc \quad \square \times \square = \square \quad \square \div \square = \square$
 $\bigcirc \quad \bigcirc \quad \bigcirc \quad \square \times \square = \square \quad \square \div \square = \square$
 $\bigcirc \bigcirc \bigcirc \quad \bigcirc \bigcirc \bigcirc \quad \square \times \square = \square \quad \square \div \square = \square$

2、 $\triangle \triangle \triangle \quad \triangle \triangle \triangle \quad \triangle \triangle \triangle \quad \triangle \triangle \triangle \quad \square \times \square = \square \quad \square \div \square = \square$
 $\triangle \triangle \quad \triangle \triangle \quad \triangle \triangle \quad \triangle \triangle \quad \square \times \square = \square \quad \square \div \square = \square$

3、 $\star \quad \star \quad \star \quad \star \quad \square \times \square = \square \quad \square \div \square = \square$

☆☆ ☆☆ ☆☆ ☆☆ $\square \times \square = \square$ $\square \div \square = \square$

五、你有几种不同的填法。(共 8 分)

() \div () = 4 () \div () = 6
() \div () = 4 () \div () = 6
() \div () = 4 () \div () = 6
() \div () = 4 () \div () = 6

六、把表格填完整。(12 分)

因数	6	5	2	6	2	6
因数	3	2	4	6	6	4
积						

被除数	30	15	12	16	6	18
除数	5	5	6	4	1	6
商						

七、你能解决下列问题吗？(第 1 题 9 分，其余每题 4 分)

1、把条件和问题连起来，再解答。

①15 个羽毛球，平均分给 5 个班。 一共分了几个小皮球？
球？

②18 个乒乓球，每班分 3 个。 每个班分得几个？

③每班分 6 个小皮球，分给 5 个班。 能分给几个班？

解答：①

②

③

2、有 12 个小朋友参加跳绳比赛，4 个人一组，可以分成几组？

3、有 20 个皮球。

(1) 平均分给 5 个班，每个班分几个？

(2) 每个班分 4 个，可以分给几个班？

4、30 个同学平均分成 5 组去浇树，每组有几个同学？

5、学校买来 4 包书，每包 6 本，把这些书平均分给 3 个班，每个班分几本？

6、3 张纸可以做 15 朵花，6 张纸可以做多少朵花？

别人都在用资料了，而你还在找？

电子版
全免费



无需分享
直接给

- No. 1 课文同步练习题。
- No. 2 单元, 月考, 期中, 期末测试卷, 考试卷, 真题卷
- No. 3 课文、单元、全册知识点总结归纳整理。
- No. 4 课文教案, 课件, 课文同步朗读MP3。
- No. 5 考前知识点总结, 重点知识勾画。
- No. 6 字词句, 阅读理解, 看图写话等解题思路分析
附答题思路模式。
- No. 8 语文数学考试必考知识点, 易错常错点专业分
析针对练习。

一辈子、一件事。专注小学教育！

第一步：

收集大多数家长需要的资料。
并且免费分享给大家。