

人教版二年级数学下册练习题

解决问题

1. 计算

$38 - 6 \times 4$

$9 \times (56 \div 7)$

$(35 + 37) \div 9$

$4 \times (16 - 9)$

$57 - (11 + 27)$

$50 - 40 \div 5$


2. 填空题：

(1) 54 加 37 的和是 ，再减去 48 得 .

(2) 一个因数是 9，另一个因数是 4，积是 ，再除以 6 得 .

(3) 63 除以 9 的商是 ，再乘 7 得 .

3. 看图列算式，并解答。



4. 小明看一本连环画报，看了 4 天，平均每天看 8 页，还剩下 12 页没有看，这本连环画报共有多少页？

5. 小红用彩纸叠了 34 颗红星星，30 颗蓝星星，把这些星星分送给 8 个同学，平均每个同学分到几颗星星？

人教版小学二年级数学下第二单元测试题

一、填空。

1. 把 10 个 \bigcirc 平均分成 5 份，每份是 () 个。

列出算式：() \div () = ()。

2. $24 \div 4 = ()$ 读作：() 除以 ()，表示把 () 平均分成 () 份，每份是 ()，也就是 () 里面有 () 个 ()。

3. $1、() \times 5 = 15$

$6 \times () = 24$

$3 \times () = 18$

$() \times 4 = 20$

五 () 三十

() 四十二

不想每次到处找资料，可添加张老师微信：862325

() 六十二 五 () 二十五 () 四得八

4、算式 $18 \div 3 = 6$ ，读作 ()，被除数是 ()，除数是 ()，商是 ()。

5、在 () 里填上 <、> 或 =。(4分)

3×3 ○ 6 $4 + 5$ ○ 5×5 $8 \div 2$ ○ 2×2 $1 + 1$ ○ 1×1

6、在 () 里填上 +、-、 \times 或 \div 。(8分)


24 ○ $6 = 4$ 6 ○ $6 = 12$ 5 ○ $3 = 15$ 30 ○ $5 = 25$
 25 ○ $5 = 30$ 16 ○ $4 = 4$ 7 ○ $1 = 7$ 20 ○ $5 = 4$

7、根据乘法口诀三六十八，写出两个除法算式。(2分)

() \div () = () () \div () = ()

8、圈一圈，填一填。(10分)



(1) 有 () 个  每 () 个一份，可以分成 () 份。算式是 ()。


(2)  有 () 个 ，平均分成 () 份，每份是有 () 个。算式是 ()。

9、 $30 \div 5 = 6$
 | | | |
 () () () ()。

10.用下面卡片上的数摆成学过的除法算式。

12 5 20 3 4 18 6

$\square \div \square = \square$ $\square \div \square = \square$
 $\square \div \square = \square$ $\square \div \square = \square$
 $\square \div \square = \square$ $\square \div \square = \square$



13.

乘法算式：() \times () = ()，() \times () = ()

除法算式：() \div () = ()，() \div () = ()

14. $4 \times 5 = 20$

$20 \div 5 = 4$ 想：(四)五二十，商是 4.

$20 \div 4 = ()$ 想：四()二十，商是().

15. $12 \div 2 = ()$ 想：二()十二，商是().

$12 \div 6 = ()$ 想：()六十二，商是().

$24 \div 4 = ()$ 想：四()二十四，商是().

$24 \div 6 = ()$ 想：()六二十四，商是().

$$\begin{array}{cccccc} 3 \times 2 = & 2 \times 5 = & 3 \times 4 = & 6 \div 2 = & 10 \div 2 = & 12 \div 3 = \\ 6 \div 3 = & 10 \div 5 = & 12 \div 4 = & 5 \times 3 = & 5 \times 6 = & 6 \times 4 = \\ 15 \div 3 = & 30 \div 6 = & 24 \div 4 = & 15 \div 5 = & 30 \div 5 = & 24 \div 6 = \end{array}$$

- 3、(1) 除数是4，被除数是24，商是多少？
(2) 15 里面有几个3？
(3) 6 的5 倍是多少？
(4) 把30 平均分成6 份，每份是多少？
(5) 18 除以6 等于多少？

四、解决问题。


1. 一个乒乓球2 元钱，4 个羽毛球12 元钱，哪种球比较便宜？便宜多少钱？
2. 超市饮料降价，买3 瓶鲜橙汁6 元钱，买6 瓶多少钱？
3. 一本书有36 页，小明每天看6 页，几天可以看完？如果4 天看完，平均每天看多少页？
4. 8 个同学做花，每人做5 朵，送了18 朵给幼儿园小朋友，还剩下多少朵？
把这些风车平均分给4 个小朋友，每个小朋友分几个？

5、(4分)

每箱有8

把这3箱水平

每个同学分几瓶？



6.

儿童商店				
 0.30元	 5.00元	 10.00元	 □	 0.50元
 3.00元	 8.00元	 7.00元	 □	 6.00元

- (1) 小明用20 元钱可以买几个小熊玩具？(3分)
- (2) 3 个球12 元，小明想买6 个球，应付多少钱？(4分)
- (3) 请你提出用除法计算的数学问题，并解答。(4分)
_____ ?

五、智力冲浪：

不想每次到处找资料，可添加张老师微信：862325

多品小学教育网提供更多更全免费资料，官网地址：www.duopin.cn

(1) O、△、☆分别代表什么数？

$$O+O+O=18$$

$$\Delta+O=14 \quad O=(\quad) \quad \Delta=(\quad) \quad \star=(\quad)$$

$$\star+\star+\star+\star=20$$

$$(2) O+O+O=9 \quad \Delta+\Delta+O+O+O=17$$

$$\Delta=(\quad) \quad O=(\quad)$$

别人都在用资料了，而你还在找？

电子版
全免费



无需分享
直接给

- No. 1 课文同步练习题。
- No. 2 单元, 月考, 期中, 期末测试卷, 考试卷, 真题卷
- No. 3 课文、单元、全册知识点总结归纳整理。
- No. 4 课文教案, 课件, 课文同步朗读MP3。
- No. 5 考前知识点总结, 重点知识勾画。
- No. 6 字词句, 阅读理解, 看图写话等解题思路分析
附答题思路模式。
- No. 8 语文数学考试必考知识点, 易错常错点专业分析
针对练习。

一辈子、一件事。专注小学教育!

第一步：

收集大多数家长需要的资料。
并且免费分享给大家。

不想每次到处找资料，可添加张老师微信：862325