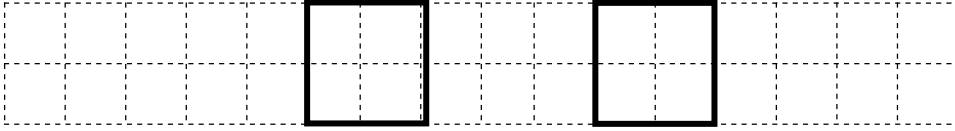


小学数学二年级下册重点难点练习题

1 • 5 个面包要 10 元，3 个面包要多少元？ 2 • 一根木头锯 6 段要 30 分钟，锯 4 段要多少分钟？

3 • 左边图形向右平移了（ ）格。



4 • 60 与 24 的差是 6 的几倍？ 5 • 把 $12+13=25$ 和 $49-25=24$ 合并成一个算式是：（ ）。

6 • 美术组有 8 人，音乐组是美术组的 3 倍，音乐组是舞蹈组的 4 倍，舞蹈组有多少人？

7 • 计算时，有括号的先算（ ）再算（ ）；没有括号的，既有乘除法又有加减法先算（ ）再算（ ），（ ）或（ ）的，就从左到右按顺序计算。

8 • 老师有 20 个本子，最少还要买（ ）个就可以平均分给 7 个小朋友了。

9 • 判断错误：把 24 个苹果分成 3 份，每份是 8 个。（ ）

10 • $5+4\times 7=$ ，把 $4+6=10$ 和 $46+10=56$ 合并成一个算式是：_____

11 • 小明拿 50 元买一本作文选用了 12 元，买一支钢笔用了 20 元，他还剩多少元？（用两种方法解答）

12 • 小红今年 4 岁，爸爸是她 6 倍，明年爸爸是小红的几倍？ 13 • 村长今年 31 岁，小羊 7 岁。村长 60 岁时小羊多少岁？

14 • 56 里面有（ ）个 8。算式是：_____。

15 • 9 筐苹果每筐三个，平均分给 3 人，每人分得几个？

16 • $\triangle \triangle \triangle \triangle \triangle \triangle \triangle \triangle$ 画 $\textcircled{\text{笑脸}}$ 使 \triangle 是 $\textcircled{\text{笑脸}}$ 的 2 倍。

17 • 涂一涂：使白色是涂色的 2 倍。



18 • 二（10）班原来有 68 人，这学期转走 3 人又转来了 10 人，现在比原来多了几人？

多品小学教育网

19 • 根据算式提问题或条件。

小鸡有 6 只，小鸭是小鸡的 5 倍，_____ ? 算式是： $6+6\times 5$

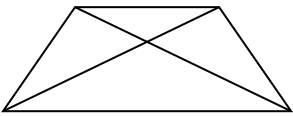
小鸡有 8 只，_____，小鸭有多少只？ 算式是： $8\div 2$

20 • 单人椅有 36 把，双人椅有 8 把，一共能做多少人？

21 • 81 减去 64 与 45 的差，结果是多少？

22 • $56\div 8=7$ ，表示（ ）是（ ）的（ ）倍，还可以表示（ ）里面有（ ）个（ ）。

23 • 数一数。



有（ ）个直角，（ ）个钝角，（ ）个锐角。

24 • 4 个篮球和 5 个排球一共 62 元，一个篮球 8 元，一个排球多少元？

25 • 一包糖如果平均分给 6 人，每人得 3 颗。平均分给 9 人，每人得几颗糖？

26 • 小猴摘了 37 个苹果，大猴摘了 29 个苹果。它们还摘多少个苹果才到 80 个？

27 • 小红看一本故事书，前三天每天看 8 页，第四天从第几页开始看？

28 • 星期天明明家一家三口来请客人吃饭，明明准备了 10 根筷子，来了几名客人？

29 • 判断：3 点整、3 点半、9 点整、9 点半的时针分针都成直角。 ()

30 • 判断：自行车行驶中的车子和车轮运动都是旋转现象。 ()

31 • 判断： $47-17+23$ 与 $47-(17+23)$ 的得数相同。 ()

32 • 六杯牛奶 54 元，八杯奶茶 56 元，哪种饮料多便宜？

33 • 81 减去 64 与 45 的差，得数是多少？

34 • 小红有 30 张邮票，小明比小红多 12 张，小明和小红共有多少张邮票？

35 • 同学们一起折花，玲玲折了 9 朵，贝贝折的比玲玲少 2 朵，丽丽折的是玲玲的 6 倍。

(1) 玲玲和贝贝一共折了多少朵？

(2) 玲玲和丽丽一共折了多少朵？

36 • 五五二十五这句口诀能写 () 道除法算式。

37 • 书柜里有 30 本书，借给王欢和他的 5 个同学，平均每人能借几本？

38 • 从一个钝角上剪去一个直角后得到的角是 ()。

39 • 判断：两个锐角合起来得到的角一定是钝角。 ()

40 • 一个钝角可以分成 ()。

A. 一个直角和一个锐角 B. 两个锐角 C. 不能确定

41 • 在 $7 \times () < 43$ 的括号里最大能填 ()。

42 • 把 $8 \times 3 = 24$ 和 $24 \div 6 = 4$ 写成一个算式是 ()。

43 • 妈妈出差 35 天，正好是 () 个星期。

44 • 判断：两个数相除，被除数一定大于除数。()

45 • 小猴 5 分钟做了 40 道数学题，小狗 7 分钟做了 49 道数学题。() 做的快些。

46 • 老师有 19 本作业，最少还要买 () 本就可以平均分给 7 个小朋友了。

47 • 老师把 18 朵小花分给 2 组同学，每组有 3 名同学，平均每人分得几朵小花？


48 • 小明做了 36 朵花，小红做了 9 朵花，如果每 5 朵小花扎成一个花环，他两的花可扎成几个花环？

49 • 用 2 张纸可以折 8 只纸鹤，7 张这样的纸可以折几只纸鹤？

50 • 苹果有 6 个，梨的个数是苹果的 3 倍，梨的个数又是桃子的 2 倍。桃子有多少个？

51 • 小红的体重是 32 千克，小红比小明重 5 千克，小红和小明一共重多少千克？

52 • 画出 \triangle 先向右平移 2 格再向下平移 3 格的图形；分别画出 \square 向左平移 4 格和向下平移 3 格的图形。



53 • 判断：2003 读作二百零三。 ()

54 • 判断：1 千克棉花和 1 千克钢筋比较，1 千克钢筋重一些。 ()

55 • \square 最大能填几？ $\square 99 < 5600$ $\square 8 > 1460$

56 • 一箱梨连箱重 25 千克，吃了一半后连箱重 13 千克，梨重多少千克？箱重多少千克？

57 • 填上适当的单位：我的爸爸身高 175 ()，体重 70 ()。
一张碟子有 35 () 歌。 3 元买 5000 () 的西瓜。

58 • 有这样四个数：6497、5999、7123、6006 哪个数最接近 6000？ ()。

59 • 加数 + 加数 = () 被减数 - 减数 = ()
一个加数 = () \bigcirc () 减数 = () \bigcirc ()
被减数 = () \bigcirc ()

60 •



61 • 760 读作：()

62 • 在方格中填上合适的数。

78 • 比 546 多 500 的数是多少？ 8 除 72 的商是多少？ 8 是一个数的 2 倍，这个数是多少？

79 • $56 \div 7 = 8$ 读作 () 也可以读作 ()，这个算式表示把 () 平均分成 () 每份是 ()，或表示 () 里面有 () 个 ()，或表示 () 是 () 的 () 倍。

80 • 有多少个角？



81 • 按规律填数。

(1) 2 3 5 8 13 () () () ()。

(2) 1 4 9 16 25 () () ()。

(3) 1 4 7 10 () 16 19 () 25。

(4) 3 4 7 12 19 28 () () ()。

82 • 一头大象重 5000 ()， 2500 克 = () 千克 () 克
2 千克 - 200 克 = () 克 一袋奶粉 500 克，10 袋重 () 克，合 () 千克。

83 • 100 克里面有 () 个 10 克，1 千克里面有 () 个 1 克。

84 • 判断：一代白糖重 250 千克，4 袋同样的白糖刚好重 1 千克。..... ()

85 • 判断：3 千克和 3 厘米一样大，5 千克比 3 厘米大。..... ()

86 • 一瓶饮料连瓶重 1 千克，瓶重 100 克，饮料重 () 克。

87 • 食堂有 30 千克绿豆，吃了 4 天后还剩 14 千克，平均每天吃了多少千克？

88 • 32 个百加上 6 个十是 ()；差和减数都是 1700，被减数是 ()。

89 • 一台电风扇 189 元，两台大约是 () 元。

90 • 590 比多少少 120？

91 • 一根绳子长 36 米，剪去同样长的 4 段后还剩 8 米，剪去的每段长几米？

92 • 383 中左边的 3 表示 ()，右边的 3 表示 ()。

93 • 400 比 () 少 150。

94 • [] 里最大能填几：5[]85 < 5886。

95 下面算式中，与 $76 - (50 - 35)$ 的得数相等的算式是：()

- A. $76 - 50 - 35$ B. $76 + 50 - 35$ C. $76 - 50 + 35$

96 • 某饲养场养鸡鸭鹅，期中养鸡 280 只，养鸭 190 只，养鹅多少只？

97 • 兔妈妈拔了 8 个萝卜，小兔拔得的是妈妈的 5 倍，它们一共拔了多少个萝卜？

98 • 大车限乘 46 人，小车限乘 7 人，有 74 名同学去春游，租了一辆大车，还要租几辆小车刚好坐满？

99 • 同学们分成 4 排做操，每排 9 人，如果把他们分成 6 排，每排几人？

100 • $48 - 12 + 6$ 先算 () 再算 ()； $30 + (16 + 26)$ 先算 () 再算 ()。

101 • 下列算式中，括号可以不写的是 ()。

- A. $23 + (6 \times 4)$ B. $(25 - 20) \times 4$ C. $56 - (40 + 3)$

102 • 下面的算式对吗？不对请改正。

$56 - 12 + 18$	$12 - 6 \times 2$
$= 56 - 30$	$= 6 \times 2$
$= 26$	$= 12$

103 • 把两个算式改写成一个算式。 $24 + 16 = 40$ $70 - 40 = 30$ ()


104 • 二年级 3 班有 24 名男生，有 27 名女生。儿童节没有去参加演出的有 39 人，去参加演出的有多少人？

105 • 村长今年 31 岁，喜洋洋今年 7 岁。村长 60 岁时，喜洋洋多少岁？

106 • $20 \div 5 = 4$ ，表示把 () 平均分成 () 份，每份是 ()；还表示 20 里面有 () 个 ()。

107 • 在 () 里填上适当的数。 () $\times 2 = 2$

108 • 圈一圈填一填。

有 () ，平均分成 () 份，每份有 ()，算式是 ()。

109 • 判断：(1) \div (4) = 4 3×3 (=) 6 (4) $\times 2 = 2$

110 • 小明用 3 张纸做了 6 个风车，18 个风车要用几张纸？

111 • 小红用 3 张纸做了 6 个风车，那么 5 张纸可以做多少个风车？

112 • 红红生病了，一共要吃 12 粒药。每天吃 3 次，每次吃 2 粒，这些药要吃几天？

113 • 判断：小明有 35 元，我有 7 元，我的钱是小明的 5 倍。 ()

114 • 选择：一支笔 9 元，小明有 40 元，他最多能买 () 只笔。

A. 6 B. 5 C. 4

115 • 30 里面有 () 个 6，算式为 ()。

116 • 在 () 填上+、-×÷号： $7 () 3 = 16 () 6$ 。

117 • 判断：20 是 4 的 5 倍，因为 20 里面有 4 个 5。 ()

118 • $4 \times 5 = 20$ ，读作 ()，用到的口诀是 ()。

119 • () \bigcirc () = 和 一个加数 = () \bigcirc ()

() \bigcirc () = 被减数 减数 = () \bigcirc ()

差 = () \bigcirc () () \bigcirc () = 积

一个因数 = () \bigcirc () () \bigcirc () = 商

被除数 = () \bigcirc () 除数 = () \bigcirc ()

120 • 笔算： $100 - 81 =$ $400 - 380 =$ $540 - 500 + 600 =$

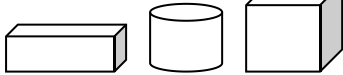
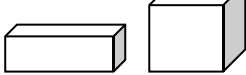
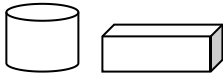
121 • 20 比一个数少 5，这个数是 ()。 $12 - 12 \div 4 = ()$ 。

122 • 小红今年 8 岁，她 4 岁的时候妈妈是 29 岁，今年妈妈多少岁？


123 • 判断：把 18 个苹果分成 2 份，每份 9 个，叫平均分。 ()

124 • 在除法里，商不一定小于除数。 ()

125 一个 2 分硬币约重 1 克，8 个 2 分硬币约重 16 克。 ()

126 •  100 克  70 克  50 克





() 克

() 克

() 克

127 • 与 4100 相邻的两个数是 () 和 ()。

128 • 判断：十个锐角合起来一定是钝角。 ()

129 • 判断：比直角大的角就是钝角。 ()

130 • 选择：平移的方向 ()

A. 可以向任何方向 B. 只能上下平移或左右平移 C. 只能左右平移。

131 • 估算 $681 - 295$ 时，可以把 681 看作 ()，把 295 看作 ()，因为 () - () = ()，所以 $681 - 295$ 大约是 ()。

132 • $3 \text{ 千克} - 750 \text{ 克} = () \text{ 克}$ $7000 \text{ 克} + 1000 \text{ 克} = () \text{ 千克}$ 。

133 • 找规律：(1) 3 6 12 24 () ()

(2) 100 90 81 73 () ()

(3) 1 1 2 6 ()

134 • 克和千克都是表示 () 的单位，米和厘米都是表示 () 的单位。

135 • 被除数和除数 (0 除外) 相等，商是 ()。

136 • 买 8 千克苹果 72 元，买 3 千克苹果多少钱？45 元可以买多少千克苹果？

137 • 现在有 8 顶帽子和 14 只手套。如果每人分给 1 顶帽子和 1 双手套，可以分给多少个人？

138 • 如果被减数不变，减数减少 10，那么差就会 ()。

140 • $4 \text{ 千克} + 1000 \text{ 克} = ()$ 。

141 • 判断：一辆汽车的载重量是 2000 千克。 ()

142 • 判断：比锐角大的角就是钝角。 ()

143 • 判断：钝角一定比锐角大。 ()

144 • 从 7900 起，一个一个的数，下一个数是 ()，一百一百的数下一个数是 ()，一千一千的数下一个数是 ()。

145 • 9 点整时针和分钟成 () 角，3 点整时针和分钟成 () 角，9 点半时针和分钟成 () 角，3 点半时针和分钟成 () 角。

146 • 2 个同学一次搬 1 张桌子，1 个同学一次搬 2 个椅子。9 张桌子和 18 把椅子一次搬完需要多少个同学？

147 • 6 个 6 相加和是 ()，8 的 4 倍是 ()，比 521 多 19 的数是 ()，9 是 3 的 () 倍。

147 • 百位的左边第一位是 ()，左边第二位是 ()，右边第二位是 ()。

148 • 一本故事书 84 页，小明看了一周 (7 天) 后，还剩 49 页。小明每天看了多少页？

149 • 一些苹果，小红一天要吃 3 个，她吃了 5 天后还剩 6 个，这些苹果共有多少个？

150 • 王老师买了 8 支铅笔，付了 100 元，找回 28 元，每支铅笔多少元？

奥数天地

1、新学期到了我们班原来有学生 56 人，转走了 12 人，转来了 8 人。班里的学生变多了还是变少了？如果多了，多了几人？如果少了，少了几人？

2、我今年 10 岁，妈妈今年 35 岁，我 18 岁时，妈妈多大？

3、红花有 8 朵，黄花是红花的 3 倍多一些，黄花最少有多少朵

4、小明吃了原有苹果的一半后还剩 8 个，原有苹果多少个？

5、11 个小朋友拔河比赛，其中一人当裁判，其余的人分成 2 队比赛，怎样分才公平？

6、妈妈买了一些苹果，个数在 10 和 20 之间，如果把它们平均分成 3 份或 5 份，都能正好分完，妈妈买了多少个苹果？

7、 $A \div B = 6$ $A + B = 21$ 那么 $A = (\quad)$ ， $B = (\quad)$ 。

- 8、乌龟共有 20 条腿，小鸡的只数和乌龟的只数一样多，小鸡共有多少条腿？
- 9、从第一盏路灯到第 9 盏路灯相隔 72 米。平均每两盏灯之间相距多少米？
- 10、按“大大大小”排列，一共有 32 个字，那么有多少个“大”字？
- 11、一个数，个位是 2，十位是个位的 3 倍，百位比十位少 1，这个数是多少？
- 12、找规律： 64 () 16 8 4 2。

别人都在用资料了，而你还在找？

电子版
全免费



无需分享
直接给

- No. 1 课文同步练习题。
- No. 2 单元, 月考, 期中, 期末测试卷, 考试卷, 真题卷
- No. 3 课文、单元、全册知识点总结归纳整理。
- No. 4 课文教案, 课件, 课文同步朗读MP3。
- No. 5 考前知识点总结, 重点知识勾画。
- No. 6 字词句, 阅读理解, 看图写话等解题思路分析
附答题思路模式。
- No. 8 语文数学考试必考知识点, 易错常错点专业分
析针对练习。

一辈子、一件事。专注小学教育！

第一步：

收集大多数家长需要的资料。
并且免费分享给大家。