


- 2、把 21 个桃子分给 3 只猴子，每只猴子一定都能分到 7 个桃子。()
- 3、从 48 里连续减去 7 个 6 得 0。()
- 4、一根长 8 米的绳子，对折后，再对折，每折长 2 米。()
- 5、计算 9×6 和 $54 \div 6$ 的得数，用的是同一句乘法口诀。()
- 6、今年妈妈的岁数是小红 4 倍，明年她们的岁数倍数关系不变。()
- 7、小明有 4 角钱，小芳有 2 元钱，小明的钱是小芳的 2 倍。()

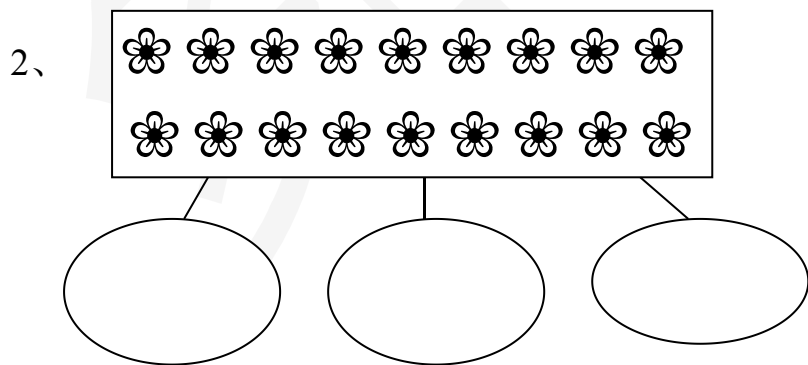
三、我会脱式计算：

$9 - 3 \div 3$ $6 + 2 \times 8$ $8 \div 4 \times 2$ $3 \times 6 \div 2$ $(10 + 25) \div 5$

四、我会看图写算式：

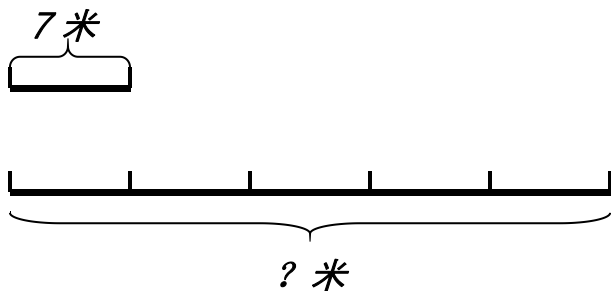


算式是：() \square () = ()



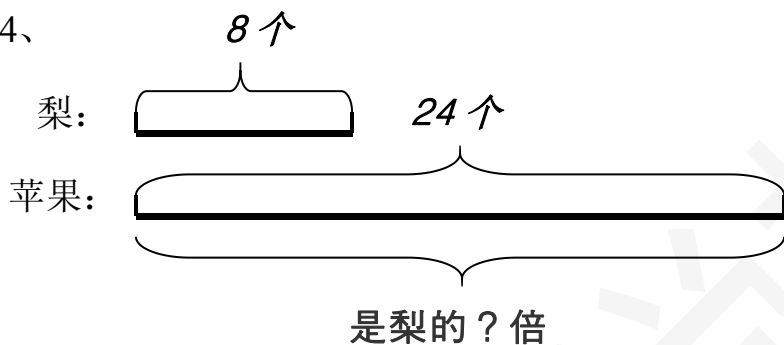
算式是：() \square () = ()

3、



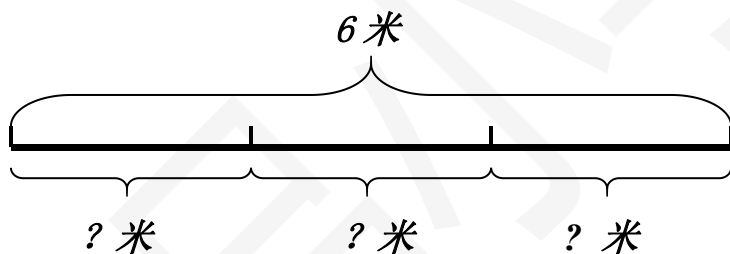
算式是：() () = () 米

4、



算式是：() () = ()

5、



算式是：() () = () 米

五、我会用所学知识解决问题呢

1、六年级七班有女生 25 人，比男生少 9 人。六年级七班一共有学生多少人？

2、五. 一节爸爸、妈妈带小明和妹妹去动物园玩，每张门票 8 元钱。妈妈用 30 元钱买门票够吗？

3、小强出生时妈妈岁数是 24 岁。今年小强 8 岁了，今年妈妈的岁数是小强的几倍？

4、王爷爷买了 9 只灰兔，54 只白兔。

(1) 白兔是灰兔的几倍？

(2) 如果每 7 只兔子装一个笼子，一共需要几个笼子？

5、杨老师买了一根长 36 米的粗绳子做拔河绳，要剪成每 9 米一段，每剪一段需要 2 分钟。

(1) 这根绳子能剪成几段？

(2) 剪完这根绳子一共需要多长时间？

6、三年级三班有共有学生 64 人，体育委员要在前面领操，其他学生每排站 9 人。他们一共要站几排？

别人都在用资料了，而你还在找？

电子版
全免费



无需分享
直接给

- No. 1 课文同步练习题。
- No. 2 单元, 月考, 期中, 期末测试卷, 考试卷, 真题卷
- No. 3 课文、单元、全册知识点总结归纳整理。
- No. 4 课文教案, 课件, 课文同步朗读MP3。
- No. 5 考前知识点总结, 重点知识勾画。
- No. 6 字词句, 阅读理解, 看图写话等解题思路分析
附答题思路模式。
- No. 8 语文数学考试必考知识点, 易错常错点专业分析
针对练习。

一辈子、一件事。专注小学教育！

第一步：

收集大多数家长需要的资料。
并且免费分享给大家。