

小学二年级数学下册综合练习题（一）

一、口算

$380-200=$ $28\div 4=$ $43+50=$ $6\times 7=$ $87-55=$ $51\div 7=$

$37+45=$

$71-26=$ $1600-700=$ $5900-2000=$ $74+32=$ $120+50=$

二、填空

1、长方形有四个（ ）角，长方形（ ）边相等。

2、四千 写作：（ ） 三千零七 写作：（ ）

3、按照从小到大排列下面各数：3050、5030、5003、350、3500、53

（ ） $<$ （ ） $<$ （ ） $<$ （ ） $<$ （ ） $<$ （ ）

4、选择合适的单位填空（km、m 、dm、cm、mm）

数学本厚约5（ ） 二年级的小红高128（ ） 深圳到广州大约120

（ ） 一棵大树高9（ ）

5、选择合适的符号（“ $<$ ” “ $>$ ” “ $=$ ”）

1km（ ）100m 999（ ）1000 20cm（ ）2dm

6、在计算 $35-35\div 7$ 时，要先算（ ）法，再算（ ）法。

三、判断题

1、在有余数的除法里余数一定要比除数小。（ ） 2、锐角比直角大。（ ）

3、五位数都比四位数大。（ ） 4、学校的操场跑道约200mm。（ ）

5、一个角有一个顶点，两条边。（ ）

四、1 脱式计算

$86-(23+46)=$ $63-42\div 7=$ $1000-132-452=$ $896-253+74=$

2、竖式计算并验算。

$457+326=$

$4100-648=$

$36\div 4=$

$261+425=$

$56\times 6=$

五、应用题

①小兵有 32 张动物邮票，每页放 6 张，可以放几页，还剩多少张？

②30 个同学要栽树 60 棵，已经栽了 25 棵，剩下的分给 5 个小组栽，平均每个小组栽树多少棵？

③商店运进 7 箱粉笔，每箱 8 盒，其中白粉笔 30 盒，其余是彩色粉笔，彩色粉笔有多少盒？

④菜园里有大白菜 680 棵，上午运走 265 棵，下午运走 284 棵，菜园里还有大白菜多少棵？

⑤三班 44 名同学去旅游，中型客车每辆坐 24 人，小车每辆 4 人，请你安排一下，可以派几辆大车，几辆小车？

⑦同学们参加劳动。二（1）班去了 26 人，二（2）班去了 38 人，每 8 人编成一组，可以编几组？

⑧有 45 人去东湖游玩。其中 15 人去参观植物园，剩下的去划船，每条船坐 6 人，

不想每次到处找资料，可添加张老师微信：[862325](https://www.duopin.cn)

需要几条船？

⑨李老师有 50 元钱。买 3 个小足球用去了 36 元，剩下的钱正好买 2 副球拍，每副球拍多少钱？

别人都在用资料了，而你还在找？

电子版
全免费



无需分享
直接给

- No. 1 课文同步练习题。
- No. 2 单元, 月考, 期中, 期末测试卷, 考试卷, 真题卷
- No. 3 课文、单元、全册知识点总结归纳整理。
- No. 4 课文教案, 课件, 课文同步朗读MP3。
- No. 5 考前知识点总结, 重点知识勾画。
- No. 6 字词句, 阅读理解, 看图写话等解题思路分析
附答题思路模式。
- No. 8 语文数学考试必考知识点, 易错常错点专业分
析针对练习。

一辈子、一件事。专注小学教育！

第一步：

收集大多数家长需要的资料。
并且免费分享给大家。

不想每次到处找资料，可添加张老师微信：862325

小学二年级数学下册综合练习题（二）

一、填空题

- 1、() 个一百是一千，一万里面有 () 个千。
- 2、 $1\text{km} = () \text{m}$ ， $1\text{分} = () \text{秒}$ ， $4000\text{cm} = () \text{dm}$ 。
- 3、选合适的单位填在 () 里：
一个小朋友高 150 () 桌子高 7 () 一节课时间是 40 ()
一条铁路长 1000 ()
- 4、3084 是由 () 个千、() 个十和 () 个一组成的。
- 5、从右边起，第三位是 () 位，第四位是 () 位。
- 6、一个五位数，它的最高位是 () 位，最高位是百位的数是 () 位数。
- 7、在○里填>或<。 $1003 \circ 999$ $3968 \circ 4001$ $900 \text{克} \circ 2 \text{千克}$
- 8、把 7903、7930、9730、973 按从小到大的顺序排列：
() < () < () < ()
- 9、() $- 8 = 7$ $24 + () = 42$ $64 - () = 46$
- 12、在 $20 - 63 \times 9$ 中，先算 () 法，再算 () 法。

二、1、口算

$$\begin{array}{cccccc} 265-23= & 150+80= & 3200-2000= & 25 \times 4= & 360-50= & 5300-800= \\ 16 \times 5= & 303-170= & 1500+700= & 52 \times 3= & 320+200= & 1000-500= \\ 9 \times 6= & 56 \div 8= & 1200-600= & & & \end{array}$$

2、竖式计算并验算：

$$254+534= \quad 486-51= \quad 672-138= \quad 23 \div 5= \quad 54 \div 9= \quad 135+865-432=$$

3、脱式计算：

$$92-5\times 7= \quad 58-34+65= \quad 81\div 9+72= \quad 6\times (32-24)= \quad 64+36\div 9= \quad (52+11)\div 7=$$

4、列式计算：

①比 342 少 80 的数是多少？

②从一个数里减去 54 还剩 28，这个数是多少？

三、应用题

1、图书角有科技书 63 本，故事书 32 本，科技书和故事书一共多少本？借出 58 本，还剩多少本？

2、食堂买来 25 千克洋白菜，吃去 18 千克，还剩多少千克？

3、新华校办厂生产玩具，张师傅做了 125 个，李师傅比张师傅多做 26 个，王师傅比李师傅少做 12 个，王师傅做玩具多少个？

4、妈妈买来 6 袋苹果，每袋 8 个。吃了 12 个，还剩多少个？

5、工程队要挖一段 565 米的水沟，已经挖了 502 米。剩下的每天挖 7 米，还要挖多少天？

6、商店卖出 5 包白糖和 2 包红糖，平均每包 3 元钱，一共卖了多少钱？

不想每次到处找资料，可添加张老师微信：[862325](https://www.duopin.cn)

7、老师有4盒乒乓球，每盒6个，借给同学8个，老师现在还有几个？（写综合式）

别人都在用资料了，而你还在找？

电子版
全免费



无需分享
直接给

- No. 1 课文同步练习题。
- No. 2 单元、月考、期中、期末测试卷，考试卷，真题卷
- No. 3 课文、单元、全册知识点总结归纳整理。
- No. 4 课文教案，课件，课文同步朗读MP3。
- No. 5 考前知识点总结，重点知识勾画。
- No. 6 字词句，阅读理解，看图写话等解题思路分析
附答题思路模式。
- No. 8 语文数学考试必考知识点，易错常错点专业分
析针对练习。

一辈子、一件事。专注小学教育！

第一步：

收集大多数家长需要的资料。
并且免费分享给大家。

不想每次到处找资料，可添加张老师微信：862325

小学二年级数学下册综合练习题（三）

一、口算

$35 \div 5 =$ $318 + 241 =$ $500 - 50 =$ $4 \times 9 =$ $600 + 400 =$ $48 \div 6 =$
 $309 + 90 =$ $60 + 600 =$ $730 - 80 =$ $560 + 318 =$ $240 - 100 =$ $150 - 90 =$

二、竖式计算并验算

$350 + 188 =$ $764 - 675 =$ $506 + 342 =$ $74 + 236 =$ $452 - 238 =$

三、在（ ）里填上“>”、“<”或“=”。

675 （ ） 657 890 （ ） 900 1000 （ ） 999 10 厘米（ ） 1 米
 40 毫米（ ） 4 厘米 11 分米（ ） 1 米 $205 + 405$ （ ） 700
 $198 + 379$ （ ） 500 50 个十（ ） 4 个百

四、填上合适的单位名称。

大米宽 2 （ ） 黄瓜长 2 （ ） 楼房高 15 （ ） 课桌宽 40 （ ）
一根筷子长约 20 （ ）

四、填空：

- 1、 19 里面最多有（ ）个 6 。 40 里面最多有（ ）个 7 。
- 2、个位和十位都是 0 ，百位上是 6 ，这个数是（ ），它有（ ）个十组成。
- 3、 567 是（ ）位数，它的最高位是（ ）位，“ 5 ”在（ ）位上，“ 6 ”在（ ）位上，“ 7 ”在（ ）位上。
- 4、在“ $782 < \square 81$ 、 $\square 10 > 8\square 4$ ”的“ \square ”里最小可以填（ ）？
- 5、在一道除法算式里，商是 7 ，余数是 3 ，除数是 6 ，被除数是（ ）
- 6、小明身高 85 厘米，他再长（ ）厘米正好是 1 米。

7、一个数，从右边起第二位是（ ）位，第四位是（ ）位。

五、解决问题：

1、有 30 本练习本，平均分给 7 个同学，每人分几本？还剩几本？

2、食堂买来 55 棵大白菜，吃掉 38 棵，吃掉的包心菜比吃掉的大白菜多 32 棵。食堂还剩下多少棵大白菜？吃了多棵包心菜？

3、希望小学学生去电影院看电影，二年级去了 136 人，三年级去了 168 人，四年级去了 59 人。三个年级一共去了多少人？

4.饲养员养了 10 只公鸡，14 只母鸡，每 4 只放入一个笼子，需要多少个笼子？（写综合式）

5.妈妈买来 9 个桃，爸爸买来 15 个桃，把这些桃平均放在 4 个盘里，每盘放几个桃？（写综合式）

6.妈妈买一双皮鞋花 52 元，买一双布鞋花 12 元，付给售货员 100 元，应该找回多少元？（用两种方法解答）

7、小白兔有 72 只，小狗有 9 只，小白兔的只数是小狗的几倍？

8、56个桃子平均分给7只小猴，每只小猴分几个？

多品小学教育网

小学二年级数学下册综合练习题（四）

一、填空（22分）。

1、 $55 \div 8$ 的商是（ ），余数是（ ）。

2、一个数从右起第二位是（ ）位，第五位是（ ）位。千位左边是（ ）位，右边是（ ）位。

3、在○里填上“<”或“>” $280+300 \bigcirc 280+30$ $2\text{cm} \bigcirc 2\text{dm}$ $1074 \bigcirc 846$

4、□里最大能填几 ① $5 \times \square < 39$ ② $\square \times 8 < 44$

5、找规律：①388、389、（ ）、（ ）、392、393

②3255、（ ）、3055、（ ）、2855

6、 $4\text{km} = () \text{m}$ $30\text{mm} = () \text{cm}$ $5\text{m} = () \text{cm}$

7、在（ ）里填上适当的单位：

①小华身高是138（ ）；②一栋楼房高25（ ）；

③北京距南京大约1160（ ）。

8、一道除法试题，余数是7，除数最小是（ ）。

四、1、口算 $200+20=$ $100+50=$ $49 \div 7=$ $46 \div 9=$

$1000-998=$ $640-180=$ $36 \div 7=$ $283+30=$ $40+750=$ $8 \times 6=$

2、竖式计算并验算：

$312-189=$ $5669-2557=$ $547+1564=$ $6754-5466=$ $695-326=$

3、脱式计算： $32 \div (324-316) =$ $81 \div 9 + 283 =$

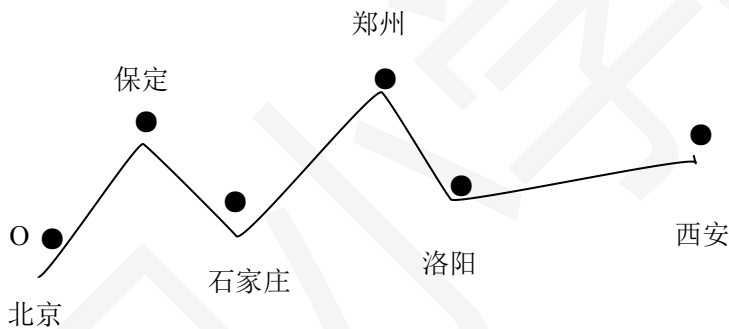
五、解决问题（29分）

1、男生 14 人，女生 13 人，每条船限坐 5 人。至少要租几条船？

2、玫瑰花每枝 5 元。百合花每枝 9 元，共 20 元。

(1) 买 4 枝百合和 1 枝玫瑰要花多少钱？ (2) 买两枝玫瑰和 1 枝百合还剩几元？

3、一个建筑工作要运 1000 袋水泥，第一天运来 385 袋，第二天运来 413 袋，还差多少袋？



北京	保定	石家庄	郑州	洛阳	西安
0	146 千米	277 千米	689 千米	813 千米	1200 千米

(1) 北京到郑州有多少千米？北京到西安有多少千米？

(2) 保定到洛阳有多少千米？

(3) 保定到郑州与石家庄到洛阳这两段铁路，各长多少千米？哪段铁路上？长多少

千米？

多品小学教育网

小学二年级数学下册综合练习题（五）

一、填空

- 10个一百是（ ），10个一千是（ ）。
- 由5个千和5个十组成的数写作（ ），这个数的最高位是（ ）位。
- 用0、6、1、4组成的四位数中，最大的数是（ ），最小的数是（ ）。
- 与3999相邻的两个数是（ ）和（ ），45是5的（ ）倍，24是（ ）的3倍， $55 \div 8$ 的商是（ ），余数是（ ）。
- 找规律，接着填。
① $\square \blacksquare \diamond \triangle$ $\blacksquare \diamond \triangle \square$ $\diamond \triangle \square \blacksquare$ （ ）
② 1、3、7、13、（ ）、31、（ ）
- 填上合适的单位名称。
①一只鸡重1998（ ），约2（ ）。
②小强的体重是28（ ），他的数学课本重170（ ）。
- 在（ ）里填“>”“<”或“=”。
 6889 （ ） 6898 10000 （ ） 9999 4900 克（ ）5千克 3000 克（ ）3千克

二、请你选一选。（把正确的序号填到括号里）

- 下面四个数中，只读一个零的数是（ ）
A、6320 B、1000 C、3009 D、5600
- 1千克铁与1千克棉花比较，（ ）重。
A、铁 B、棉花 C、一样重 D、不一定
- 最大的三位数与最小的四位数相差（ ）
A、10 B、1 C、99 D、100

三、请你算一算。（24%）

- 口算。

$6 \times 8 =$ $72 \div 9 =$ $20 + 300 =$ $66 - 25 + 39 =$ $170 - 90 =$ $35 \div 5 \times 4 =$

$40 \div 8 =$ $24 \div 6 =$

$320 + 70 =$ $30 - 56 \div 7 =$ $7 \times 9 =$ $6320 - 320 =$ $52 - (22 + 9) =$


2. 竖式计算并验算

$340 + 520 =$ $760 - 280 =$ $460 + 270 =$ $820 - 570 =$

3. 脱式计算

$588 - 63 \div 7 =$ $81 \div (791 - 782) =$ $502 - 27 \div 9 =$ $72 - (22 + 9) =$

四、解决问题



1. 平均每只猴子能吃到几个桃子？



(1) 20 元



(2) 5 元



(3) 18 元

2. 哪一种袜子最便宜？

3. 一瓶药有 42 片，张英每天吃 3 次，每次吃 2 片。这瓶药够吃几天？

4. 小红买了 8 束鲜花，每束 9 朵，送给小青后还剩 23 朵。送给小青多少朵？

5. 粮店运进 930 千克大米，第一天卖了 260 千克，第二天卖了 340 千克，还剩多少千克？

多品小学教育网

小学二年级数学下册综合练习题（六）

一、口算

$16 \div 4 =$ $9 \times 7 =$ $64 \div 8 =$ $87 - 9 =$ $5 \times 9 =$ $63 - 9 =$ $4 \times 9 =$ $65 \div 9 =$
 $50 - 8 =$ $55 \div 9 =$ $68 - 50 =$ $7 \times 8 =$ $45 \times 9 =$ $42 \div 7 =$ $673 + 28 =$

二、填空

- （ ）九七十二，七（ ）六十三，五（ ）四十。
- 7个6是（ ），40里面有（ ）个5。
- 8×7 比 8×6 的积多（ ）
- 把 $6 \times 4 = 24$ 改编成两道除法算式是（ ）和（ ）
- $28 \div 5$ 被除数是（ ），除数是（ ），商是（ ），余数是（ ）。
- 在一道除法算式里，除数和商都是7，余数是3，被除数是（ ）。
- $45 \div 5 =$ （ ），表示把（ ）平均分成（ ）份，每份是（ ）。
- 从63、9、8、7中选三个数，写出两道乘法算式和两道除法算式。
 $() \times () = ()$ $() \times () = ()$
 $() \div () = ()$ $() \div () = ()$
- （ ）里最大能填几？
 $8 \times () < 30$ $() \times 7 < 67$ $6 \times 5 < 25$ $4 \times () < 13$
 $() \times 9 < 73$ $() \times 5 < 39$

三、用竖式计算并验算

$33 \times 6 =$ $9 \times 7 =$ $20 \div 5 =$ $617 + 1564 =$ $762 - 223 =$ $73 \div 8 =$

四、列式计算。

①40 里面有几个 8?

②比 25 多 60 的数是多少?

③28 是 7 的多少倍?

④乘数是 8，被乘数是 9，积是多少?

五、把下面各题正确答案的序号填在 () 里。

1、计算 5×7 应想乘法口诀 () ①七八五十六 ② 五七三十五 ③ 五五二十五

2、求 8 是 4 的多少倍? 列式为 () ① $8 \div 4$ ② 4×8 ③ 8×4

3、小明家收了 15 个西瓜，()，要用几个筐? ①用了 3 个筐装 ② 平均每个筐装 5 个 ③ 要把 15 个西瓜装在筐里

4、 $36 \div 7$ 的计算结果是 () ① $5 \cdots 1$ ② $6 \cdots 1$ ③ $1 \cdots 6$

六、应用题。

1、花园里养了 17 盆花，平均分给 5 个班，每班分几盆，还剩多少盆?

2、小刚买了 9 枝铅笔，每枝 6 角钱，一共用了多少钱?

3、王老师有 31 个练习本，又买来 32 个，王老师一共有多少个本子? 如果把这些本子平均分给 9 个同学，每个同学可以分几个本子?

小学二年级数学下册综合练习题（七）

一、填空

1、三千二百零八写作（ ），一万写作（ ）。

2、5 千克 = （ ） 克 2000 克 = （ ） 千克

3、在○里填上“>”、“<”或“=”。

2680○2590 $4 \times 6 \div 3$ ○ $16 \div 4 \times 2$ 900 克 ○ 1 千克 2800 克○3 千克

4、用“五七三十五”这句口诀写出两个乘法算式和两个除法算式。

（ ）（ ）（ ）（ ）

5、填上合适的单位。

小强的体重是 35（ ） 两袋加碘盐重 1000（ ） 一袋方便面 129（ ）

一车煤重 4000（ ）

6、把 9999、9899、8999、9001 这几个数，按照从小到大的顺序排列。


（ ） < （ ） < （ ） < （ ）

7、 $7856 = (\quad) + (800) + (50) + (6 \quad)$


$8060 = (\quad) + (\quad)$

$2108 = (\quad) + (\quad) + (\quad)$


8、下面各钟面上的时针和分针形成什么角？再写出钟面上的时刻。



（ ） 角



（ ） 角



（ ） 角

二、判断题

1、1000 克的棉花比 1 千克铁轻。（ ）

- 2、一个数的最高位是万位，这个数是五位数。（ ）
- 3、35 减去 5 个 7 可以写作 $35 \div 5$ ，结果是一样的。（ ）
- 4、3050 读作三千零五。（ ）
- 5、最大的三位数与最小两位数的和是 1009。（ ）

三、选择题

- 1、与 888 相邻的两个数是（ ）。 A.777、999 B.889、890 C.887、889
- 2、下面各数中，一个“零”也不读出来的数是（ ）。 A.4009 B.4900 C.4909
- 3、一个鸡蛋约重 70（ ）。 A.克 B.千克 C.米
- 4、一万里里面有（ ）个百。。 A.10 B.100 C.1000

四、1、口算 $42 \div 7 =$ $81 \div 9 =$ $2000 + 4000 =$ $72 \div 9 =$ $40 \div 8 =$ $54 \div 6 =$
 $6000 - 3000 =$ $64 \div 8 =$

2、笔算并验算 $770 - 420 =$ $5407 + 280 =$ $360 - 198 =$ $260 + 170 =$

3、列式计算。

- (1) 把 45 平均分成 5 份，每份是多少？
- (2) 445 比 256 多多少？

五、解决问题

- 1、商店有自行车 60 辆，卖了 4 天，每天卖 8 辆，还剩多少辆？
- 2、海印电器商场有彩电 550 台，又运来 240 台，卖了一些后还剩 320 台，卖了多少台？
- 3、有两群猴子，每群 9 只，现把它们平均分成 3 组，每组有几只猴子？
- 4、二小一班有 32 人，二班有 40 人，做游戏每 8 人一个组，可以分几组玩？
- 5、商店原来有 25 筐桔子，卖出 18 筐后，又运进 40 筐，这时商店有桔子多少筐？

6.商店上周运进童车 50 辆，这周又运进 48 辆，卖出 17 辆。现在商店有多少辆童车？

小学二年级数学下册综合练习题（八）

一、口算： $36+42=$ $760-40=$ $640+60=$ $600+170=$ $2000+6000=$
 $580\times 3=$ $18\div 9=$ $350-200=$ $7000-5000=$ $50+130=$ $90+280=$
 $4\times 8+6=$ $15-6\times 2=$

二、填空：

- 1、写出下面各数： 三百四十八（ ） 六千零八（ ） 四千零五十（ ）
- 2、4075 是由4个（ ）、（ ）个十、5个（ ）组成的。读作（ ）。
- 3、小明7：50到校，11：50放学，他上午在校（ ）小时。
- 4、按要求的顺序排列下面各数。

5607 5067 5760 4506 4056

（ ）<（ ）<（ ）<（ ）<（ ）

- 5、在○里填上>、<或=。

2千克○1895克 200分○2小时 3000克○3千克 1分○60秒

6克○6千克 15角○1元

- 6、甲数是125，比乙数多18，乙数是（ ）。

三、选择题。（把正确的答案填在括号里，8分）

- 1、5个2分币大约重（ ）。 ① 5克 ② 5千克 ③ 5米
- 2、一支铅笔长（ ）。 ① 20米 ② 20厘米 ③ 20克
- 3、一个零也不读的数是（ ）。 ①3051 ②3105 ③ 3150
- 4、在没有括号的算式里，有除法和加、减法，要先算（ ）。

① 依次计算 ② 除法 ③ 加减法

四、判断题：

不想每次到处找资料，可添加张老师微信：862325

1、1 千克棉花和 1000 克铁一样重。 ()

2、笔算加法是从个位加起。 ()

3、最大的四位数是 9000。 ()

4、时、分、秒都是时间单位。 ()

五、1、笔算并验算：

$$2619 - 634 = \quad 3795 + 537 = \quad 88 + 97 + 105 = \quad 4103 - 279 = \quad 968 + 8293 =$$

2、脱式计算：

$$47 - 12 + 5 = \quad 60 - 6 \times 3 = \quad (60 - 18) \div 6 = \quad 14 + 21 \div 7 =$$

$$4 \times 9 \div 6 = \quad 4 \times (14 - 8) = \quad (10 - 6) \times 3 = \quad (14 + 21) \div 7 =$$

3、列式计算：

①比 5463 多 2507 的数是多少？

②甲数是 723，比乙数少 48，乙数是多少？

③一个数减去 89，得 56，这个数

④295 比 387 少多少？

六、应用题：

1、一张桌子 150 元，比一把椅子多 60 元，一把椅子多少元？

2、商店里有 4 盒皮球，每盒 6 个，卖出 20 个，还剩多少个？

3、学校开运动会，二年级男生得 25 分，女生得 18 分，二年级得分比一年级多 10 分。一年级得了多少分？

- 4、学校有图书 200 本，已经借出 128 本，剩下的每个班分 8 本，可以分给多少个班？

- 5、学校图书室有图书 398 本，活动课借给一班 70 本，借给二班 89 本，还剩多少本？

小学二年级数学下册综合练习题（九）

一、填空

- 1、一个四位数，最高位是 6，十位上是 5，其余数位上的数是 0，这个数写作（ ）
读作（ ）。
- 2、在计算除法时，每求出一位商，余下的数必须比除数（ ）。
- 3、比 687 少 96 的数是（ ） 388 比 112 多（ ）
- 4、你 7: 40 到校，11: 40 放学，上午在校（ ）小时。
- 5、8700 千克=（ ）千克（ ）克 8 千克-5（ ）=3000 克
1 千克鸡蛋大约有（ ）个 你的体重大约是（ ）
- 6、54 秒 \div 6=（ ） 2 分 12 秒=（ ）秒 200 秒 \bigcirc 3 分
600 克 \bigcirc 1 千克 86 千克=（ ）克 3 千克+2000 克 \bigcirc 5 千克
438+164 \bigcirc 2101-90 297 \bigcirc 573-286 967-158 \bigcirc 809
- 7、把 6 千克、60 克、5000 克、5200 克、按从小到大的顺序排列。

二、判断对错

- (1) 读数和写数时，都要从最高位读起和写起。（ ）
- (2) 在减法中，被减数必须大于减数。（ ）
- (3) 一个四位数减一个三位数，可能得一个三位数，也可能得一个四位数。（ ）
- (4) 1 千克棉花和 1000 克铁比较，铁比较重。（ ）
- (5) 男生比女生多 35 人，女生比男生少 35 人。（ ）

三、计算

- 1、口算。 48+25= 340+60= 480-70= 500+4000= 86-27= 370-200=

$45 \div 5 =$ $0 \div 3 =$ $63 - 36 =$ $540 - 80 =$ $63 \div 9 =$ $1000 + 5 =$ $700 - 40 =$

$90 - 27 =$ $24 - 16 \div 8 =$

2、列竖式计算并验算 $2408 + 3795 =$ $8010 - 4568 =$ $968 + 8293 =$

3、脱式计算。

$4054 - 507 + 614 =$ $25 \div 5 + 168 =$ $(416 - 360) \div 7 =$ $580 - 8 \times 9 =$

四、解决问题

- 1、幼儿园买了 48 个白皮球，24 个花皮球，平均分给 9 个班，每班分得几个？
- 2、小芳看一本书，每天看 5 页，9 天后还剩 56 页，这本书一共多少页？
- 3、学校买粉笔，白粉笔比彩色粉笔多 42 盒，彩色粉笔 39 盒，买了多少盒白粉笔？
- 4、同学们参加方块队训练，三年级 22 人，四年级 35 人，五年级 24 人，每 9 人一行，应排几行？
- 5、植树节四、五年级同学种了 108 棵柳树，还种了 3 行杨树，每行 7 棵。
 - (1) 种的杨树比柳树少多少棵？
 - (2) 四、五年级共种树多少棵？

小学二年级数学下册综合练习题（十）

一、判断：

- 1、计算有余数的除法，余数必须比除数小。（ ）
- 2、 $64-48\div 8$ ，先算减法，再算除法。（ ）
- 3、求比 72 多 20 的数是多少，用加法计算（ ）
- 4、求 80 比 100 少多少，用减法计算（ ）
- 5、 $5+4\times 6$ 和 $(5+4)\times 6$ 的运算顺序相同（ ）
- 6、早上 8：00 到中午 12：00，中间经过 4 小时（ ）
- 7、女生比男生多 4 人，就是男生比女生少 4 人（ ）
- 8、一袋盐重 500 克，两袋盐就是 1 千克（ ）
- 9、最大的三位数比最大的两位数多 900（ ）
- 10、最小的四位数减 1 就是最大的三位数（ ）

二、填空：

- 1、10 个十是（ ），2000 里有（ ）个百。
- 2、5 个千，2 个十，3 个一组成的数是（ ）
- 3、四千零九十写作（ ），八千写作（ ），三百零七写作（ ），二个千，五个百是（ ）。
- 4、从右边起，第（ ）位是百位，第四位是（ ）位。
- 5、 $7002=(\quad)+(\quad)$ ， $8300=(\quad)+(\quad)$
- 6、分针指着 10，时针走过 2，这时的时刻是（ ）时（ ）分。
- 7、1 时=（ ）分 180 秒=（ ）分
- 8、在○里填“>”，“<”或“=”：

2 时○200 分 500 克○5 千克 $78-49$ ○ $20+7$ 2500 克○2 千克
1 时 30 分○90 分 $300+42$ ○ $400+32$ 3080 ○ 2985 10 个十○2 个百

9、甲数比乙数多 40，乙数是 20，甲数是（ ）。

10、小红有 5 元钱，用去 3 元 2 角，还剩（ ）。

三、计算

1、口算 $24\div4=$ $7+63=$ $39\times4=$ $36\div6=$ $139\times7=$ $56\div8=$ $628+76=$
 $7\times5=$ $136+654=$ $30\div5=$ $63\div9=$ $64\div8=$ $38\times6=$ $45\div5=$
2、竖式计算并验算： $3001-1817=$ $257+128=$ $4325-1943=$

3、脱式计算： $7+2\times9=$ $68-20\div4=$ $130-70+30=$

4、列式计算：

①一个数减去 46 得 98，这个数是多少？

②比 120 多 90 的数是多少？

③728 比 1000 少多少？

④350 减一个数得 148，这个数是 多少？

四、应用题：

1、河里有鸭 39 只，鹅比鸭少 20 只，鹅有多少只？

2、把 43 个本子，平均发给 8 个同学，每人发几个？还剩几个？

3、挖一条长 40 米的公路，已经挖好了 26 米，剩下的两天挖完，平均每天挖多少米？

多品小学教育网提供更多更全免费资料，官网地址：www.duopin.cn

4、一斤苹果 2 元，一斤梨 3 元，妈妈买了 6 斤苹果和一斤梨，一共要用多少钱？

5、学校买一个排球和四副乒乓球拍，一共用 65 元，一个排球 29 元，每副乒乓球拍多少元？

不想每次到处找资料，可添加张老师微信：862325