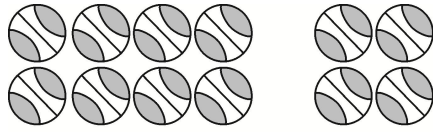




### 课标达成

一、圈一圈，算一算。



$$\begin{array}{c} 8 + 4 = \square \\ \begin{array}{c} \square \\ \square \end{array} \\ \hline 10 \end{array}$$



$$\begin{array}{c} 6 + 5 = \square \\ \begin{array}{c} \square \\ \square \end{array} \\ \hline 10 \end{array}$$

二、算一算，比一比。

$7+3+2=$

$6+4+4=$


$8+2+3=$

$7+5=$


$6+8=$

$8+5=$

三、看图列式计算。



$\square \bigcirc \square = \square \text{ (只)}$

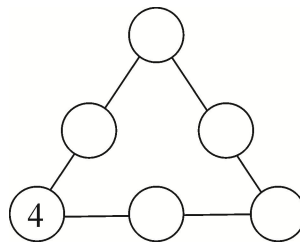


$\square \bigcirc \square = \square \text{ (只)}$




### 课后拓展

四、在  $\bigcirc$  里分别填上 5、6、7、8、9，使每条线上的三个数相加都得 18。



五、一共有( )个同学。



多品小学教育网

第2课时

一、12 2 2 11 4 1

二、12 14 13 12 14 13

三、 $4+7=11$   $8+3=11$

四、6 8 7 9 5

五、13

多品小学教育网

别人都在用资料了，而你还在找？

电子版  
全免费



无需分享  
直接给

- No. 1 课文同步练习题。
- No. 2 单元, 月考, 期中, 期末测试卷, 考试卷, 真题卷
- No. 3 课文、单元、全册知识点总结归纳整理。
- No. 4 课文教案, 课件, 课文同步朗读MP3。
- No. 5 考前知识点总结, 重点知识勾画。
- No. 6 字词句, 阅读理解, 看图写话等解题思路分析  
附答题思路模式。
- No. 8 语文数学考试必考知识点, 易错常错点专业分  
析针对练习。

一辈子、一件事。专注小学教育！

第一步：

收集大多数家长需要的资料。  
并且免费分享给大家。