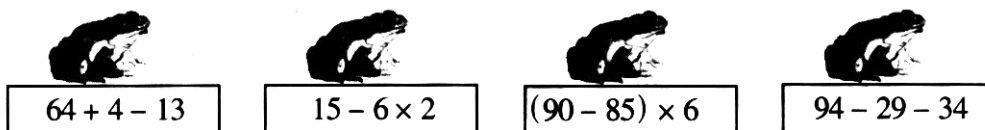


## 小学二年级数学第1单元试卷

一、青蛙回家：用线把青蛙和荷叶连起来。



二、你能算得又快又对吗？

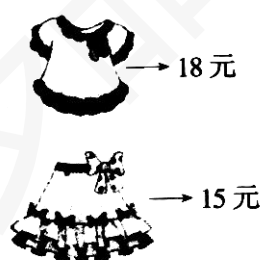
$22 + 13 - 6$

$65 - 5 \times 9$

$63 \div (32 - 23)$

三、解决问题。


- 1、妈妈买了4支钢笔，每支8元，又买了1支毛笔，每支5元，妈妈买笔共用了多少钱？
- 2、二年级同学去图书馆看书，女同学有18人，男同学有27人。每5个人坐一张桌子，一共需要几张桌子？
- 3、李老师买这套衣服够钱吗？



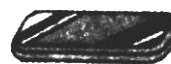
四、根据提供的信息解决问题。



4元



6元



9元

不想每次到处找资料？那就添加张老师微信：862325

- 1、小青有 30 元，买了 6 支钢笔后，还剩多少钱？
- 2、小青妈妈有 60 元，买了一本故事书后，还能买几个笔盒？
- 3、你还能提出什么数学问题？

## 小学二年级数学第 2 单元试卷

### 一、口算我最快。(8 分)

$72+8=$	$45-9=$	$36+6=$	$32-8=$	$18\div 3=$
$8\times 7=$	$30\div 6=$	$43-4=$	$54-30=$	$30\div 5=$
$6\times 5=$	$25\div 5=$	$5\times 5=$	$49+7=$	$15\div 5=$
$6\times 6=$	$72-7=$	$10\div 5=$	$4\times 5=$	$20-8=$
$24\div 4=$	$4\times 6=$	$36\div 6=$	$20\div 5=$	$32+9=$
$16\div 4=$	$18+8=$	$4\times 5=$	$4\times 2=$	$90-4=$
$2\times 3=$	$12\div 3=$	$28+7=$	$2\times 2=$	$6\times 3=$
$45\div 5=$	$12\div 2=$	$68+4=$	$26+50=$	$90-9=$

### 二、我会填。(37 分，每 5、7 题 2 分，其余每空一分。)

1、( )  $\times 5=15$        $6\times$  ( )  $=24$        $3\times$  ( )  $=18$   
( )  $\times 4=20$       五 ( ) 三十      ( ) 四十二  
( ) 六十二      五 ( ) 二十五      ( ) 四得八

2、算式  $18\div 3=6$ ，读作 ( )，被除数是 ( )，除数是 ( )，商是 ( )。

3、在  $\bigcirc$  里填上  $<$ 、 $>$  或  $=$ 。(4 分)

$3\times 3$   $\bigcirc$   $6$        $4+5$   $\bigcirc$   $4\times 5$        $8\div 2$   $\bigcirc$   $2\times 2$        $1+1$   $\bigcirc$   $1$

不想每次到处找资料？那就添加张老师微信：862325

4、在 ○ 里填上+、-、×或÷。(8分)

24 ○ 6=4      6 ○ 6=12      5 ○ 3=15      30 ○ 5=25


25 ○ 5=30      16 ○ 4=4      7 ○ 1=7      20 ○ 5=4

5、根据乘法口诀三六十八，写出两个除法算式。(2分)

( ) ÷ ( ) = ( )      ( ) ÷ ( ) = ( )

6、圈一圈，填一填。(10分)



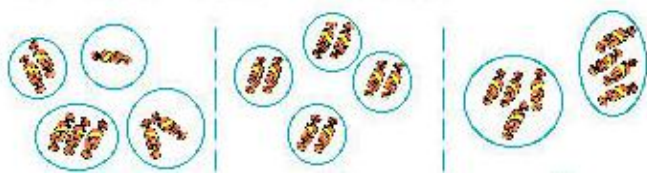
有 ( ) 个 ，每 ( ) 个一份，可以分成 ( ) 份。算式是 ( )。



有 ( ) 个 ，平均分成 ( ) 份，每份是有 ( ) 个。算式是 ( )。

7、把 8 块糖平均分给 4 个小朋友。哪种分法对？在对的 ○ 里画“√”。

(2分)



三、我会算。(18分)

1、看谁先到家。(10分)



$16 \div 4 =$   $\rightarrow$   $30 \div 5 =$   $\rightarrow$   $24 \div 6 =$   $\rightarrow$   $20 \div 5 =$   $\rightarrow$   $4 \div 2 =$   $\rightarrow$  



$30 \div 6 =$   $\rightarrow$   $6 \div 3 =$   $\rightarrow$   $15 \div 5 =$   $\rightarrow$   $8 \div 2 =$   $\rightarrow$   $16 \div 8 =$   $\rightarrow$  

2、列式计算。(8分)

不想每次到处找资料？那就添加张老师微信：862325

(1) 除数是 4，被除数是 24，商是多少？

(2) 15 里面有几个 3？

(3) 6 的 5 倍是多少？

(4) 把 30 平均分成 6 份，每份是多少？

四、看图写算式。(6 分)



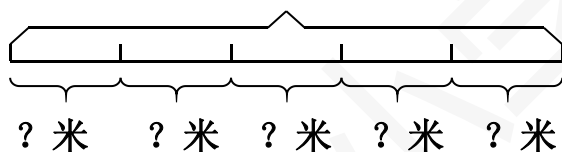
$$(\quad) \times (\quad) = (\quad)$$

$$(\quad) \div (\quad) = (\quad)$$

$$(\quad) \div (\quad) = (\quad)$$

2、

20 米

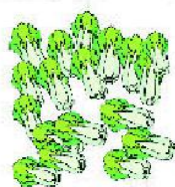


$$(\quad) \bigcirc (\quad) = (\quad)$$

五、用数学。(29 分)

1、(4 分)

18 棵



每筐装 6 棵。

需要几个筐？

2、(1) 有 8 只兔子，平均装在 2 个笼里，每个笼装几只？(3 分)

(2) 有 8 只兔子，装在 2 个笼里，一个装 5 只，另一个装几只？(3 分)

不想每次到处找资料？那就添加张老师微信：862325

3、把这些风车平均分给 4 个小朋友，每个小朋友分几个？（4 分）

4、（4 分）



我们用了 2 张纸，  
每张纸做 6 个风车。

每箱有 8 瓶。

把这 3 箱水平均分给  
6 个同学。

每个同学分几瓶？

5、



(1) 小明用 20 元钱可以买几个小熊玩具？（3 分）

(2) 3 个球 12 元，小明想买 6 个球，应付多少钱？（4 分）

(3) 请你提出用除法计算的数学问题，并解答。（4 分）

\_\_\_\_\_ ?

## 小学二年级数学第 3 单元试卷

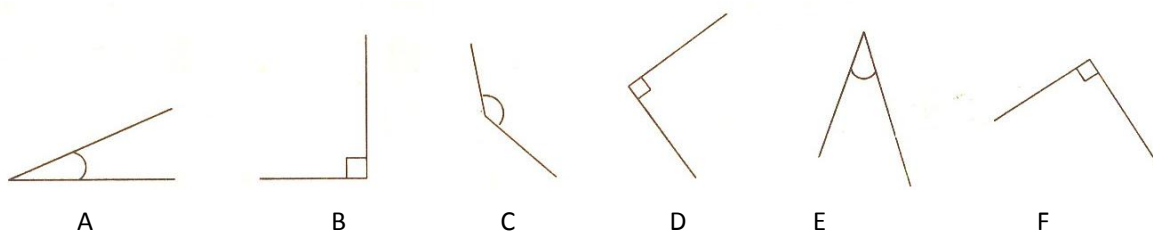
一、选择。

1. 一个正方体所有的面上共有( )个角。


A. 无数      B. 6      C. 24

2. 下列各角中，( )是直角，( )是锐角，( )是钝角。

不想每次到处找资料？那就添加张老师微信：862325



3. 下列图形中, ( )通过旋转后与下图是相同的。

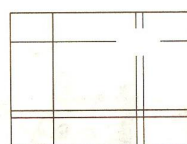


4. 把一个角放在放大镜下看, 这个角和原来相比( )。

- A. 变大了      B. 变小了      C. 没有变化

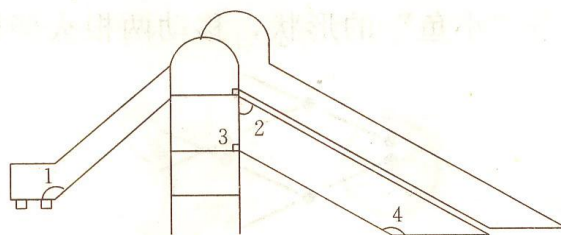
5. 下图中右上角的空白小长方形框中缺少的是( )图形。

- A.      B.      C.      D.



## 二、填 空。


1. 下面滑梯中有很多角, 请你写出图中的角各是什么角?



- $\angle 1$  是( )角       $\angle 2$  是( )角  
 $\angle 3$  是( )角       $\angle 4$  是( )角

2. 在我们学过的角中, ( )角比直角小, ( )角比直角大。

3. 图中共有( )个角。



4. 一个五边形有( )个角。

5. 把  $24 \div 4$ ,  $6 \times 7$ ,  $20 \div 5$ ,  $7 \times 8$ ,  $25 + 4$ ,  $8 \times 8$  这些算式按结果从大到小的顺序排列起来依次是( )。

## 三、应 用。

不想每次到处找资料? 那就添加张老师微信: **862325**

1. 王老师买来 45 本故事书，每 5 本包成一包，共包多少包？分给一年级 3 包后，还剩多少包？
2. 除夕夜玲玲和 3 个姐姐一起包了 36 个饺子，求平均每人包几个。
3. 妈妈买来 30 米布，做床单用了 12 米，还剩下多少米？如果做一套衣服要用 3 米布，剩下的布还能做几套衣服？

## 小学数学二年级第 4 单元试卷

### 一、直接写出得数。

$32 \div 8 =$	$54 + 26 =$	$3 \times 7 =$	$83 - 60 =$
$24 + 37 =$	$9 \times 2 =$	$61 - 34 =$	$35 \div 7 =$
$6 \times 8 =$	$87 - 63 =$	$56 \div 8 =$	$75 + 15 =$
$65 - 28 =$	$21 \div 3 =$	$30 + 48 =$	$6 \times 6 =$
$63 \div 9 =$	$55 + 14 =$	$5 \times 7 =$	$40 - 23 =$

### 二、想一想，选择合适答案的序号填在（ ）里。

1. 被除数是 54，商是 6，除数是 9，求商列式是（ ）。  
(1)  $54 \div 6$       (2)  $54 \div 9$       (3)  $6 \times 9$
2. 求 6 个 7 相加是多少，列式是（ ）。  
(1)  $6 - 7$       (2)  $7 \times 6$       (3)  $6 + 6 + 6 + 6 + 6 + 6 + 6 + 6$
3. 钢笔每支 8 元，圆珠笔每支 2 元，钢笔和价钱是圆珠笔价钱的多少倍？这题是求（ ）。  
(1) 8 和 2 倍是多少      (2) 把 8 平均分成 2 份，每份是多少  
(3) 8 是 2 的多少倍
4. 一个因数是 12，另一个因数是 4，积是多少？列式是（ ）。  
(1)  $12 \times 4$       (2)  $12 \div 4$       (3)  $12 + 4$
5.  $8 + 8$  ○  $8 \times 2$   
(1)  $>$       (2)  $<$       (3)  $=$

6、每两个男生之间站一名女生，6个男生之间站（ ）个女生。

- (1) 6                      (2) 5                      (3) 3

三、想一想，填一填。

1、36是4的（ ）倍，是6的（ ）倍。

2、 $72 \div 8 =$ （ ），想口诀（ ）。

3、把18连续减去3，（ ）次减完。

4、把42本练习簿，平均分给7个同学，每人分得（ ）本。]

5、32里面有（ ）个4。

6、从35里面减去（ ）个5，结果是5。

7、妈妈买来48支花，每6支扎成一束，可以扎（ ）束。

8、一个数的7倍是56，这个数是（ ）。

四、想一想，（ ）里最大能填几。

$8 \times ( ) < 36$

$5 \times ( ) < 5$

$6 \times ( ) < 40$

$54 > ( ) \times 8$

$12 > ( ) \times 3$

$28 > ( ) \times 7$

五、这些小动物迷路了，你能帮它找到自己的家吗？



$40 \div 5 \times 9$



$80 - 7 \times 6$



$17 + 4 \times 7$



$4 \times 9 \div 6$

六、很快算出下面各题。

$18 \div 3 \times 9 =$

$54 \div 9 \times 7 =$

$34 + 6 \times 8 =$

$70 - 3 \times 6 =$

不想每次到处找资料？那就添加张老师微信：862325



$45 + 63 \div 9 =$

$6 \times 7 - 32 =$

$56 \div 8 + 29 =$

$6 \times 6 \div 4 =$

七、解决问题。

1、



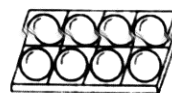
36元/个



18元/副



6元/个



4元/个

(1) 买8个羽毛球要多少钱？

(2) 一个足球的价钱是一个乒乓球价钱的多少倍？

(3) 买2副乒乓拍的钱可以买几个羽毛球？


(4) 你还能提出哪些数学问题？

2、二(C)班同学参加学校竞赛。一等奖的奖品是40本故事书，二等奖的奖品是48本练习簿。比赛结果一等奖有5人，二等奖有8人。

(1) 一等奖的同学每人可得多少本故事书？

(2) 你还能提出哪些数学问题？

3、



项目	价格
大空船	4元
蹦蹦床	3元
电动火车	12元

不想每次到处找资料？那就添加张老师微信：862325

(1) 我们有 20 元，太空船票每张 4 元，能买几张太空船票？

(2) 电动火车票每张 2 元，我们 9 个同学一起玩电动火车 2 次，一共要多少钱？

4、小浪花和 4 个同学去公园玩，共花了 20 元买门票，平均每张门票多少元？

## 小学数学二年级第 5 单元试卷

### 一、选择。

- 2022 中 3 个 2 表示的大小 ( )。  
A. 一样 B. 不一样 C. 无法确定
- 从 8900 起一百一百地数，下一个数是( )。  
A. 8910 B. 9100 C. 9000 D. 9900
- 下面四组数中，( )的关系与其余三组不同。  
A. 5300 与 5200 B. 9540 与 9440  
C. 7420 与 7320 D. 8400 与 7400
- 下列各组数的排列中，( )是正确的。  
A.  $6120 > 6100 > 614$  B.  $4050 < 4005 < 4500$   
C.  $3480 < 2999 < 4380$  D.  $798 > 780 > 870$
- 最大的三位数再加上( )就是最小的四位数。  
A. 900 B. 990 C. 1

### 二、填空。

- 4325 是由( )个千，( )个百，( )个十和( )个一组成的。
- 一个数的千位和个位都是 5，其余各位上都是 0，这个数是( )。
- 用 8, 6, 2, 5 这四个数写出的最大四位数是( )，最小的四位数是 ( )。
- 一个一个地数，排在 8889 后面，连续的 5 个数是( )，( )，( )，( )，( )。
- 以下各数按照从大到小的顺序排列依次是 8800, 8000, 8008, 8080, 880, 808。  
( ) > ( ) > ( ) > ( ) > ( ) > ( )

### 三、在○里填上“>”、“<”或“=”。

9. 50○9. 05
0. 02○0. 0194
8. 7999○8. 8
1. 52○5. 21
- 7 千米 85 米○7. 85 千米
- 380 元○38 元
0. 1 平方米○10 平方分米
- 50 平方厘米○0. 5 平方米

不想每次到处找资料？那就添加张老师微信：862325

#### 四、判断。

1. 一个小数，小数部分位数越多这个数就越大。 ( )
2. 因为  $0.50=0.5$ ，所以把  $0.498$  保留两位小数得  $0.50$ ，也可以写成  $0.5$ 。 ( )
3. 在整数的末尾添上三个  $0$ ，原来的数就扩大  $1000$  倍。 ( )
4.  $100$  个  $0.3$  是  $0.300$ 。 ( )
5. 因为  $0.30$  和  $0.3$  同样大，所以它们的计数单位也相同。 ( )
6. 把一个数的小数点先向左移动两位，再向右移动三位，所得新数是原来的  $100$  倍。 ( )

#### 五、应用。

1. (1)买这两样东西一共花了多少钱?



1300 元



500 元

- (2)洗衣机比吸尘器贵一厂多少钱?

2. 小云家买了一台彩电花了  $1390$  元钱，小东家买的彩电比小云家贵  $2010$  元钱，小东家的彩电多少钱?
3. 李庄修一条公路，每天修  $9$  米，修了  $9$  天后还剩下  $99$  米没有修，这条路全长多少米?

## 小学数学二年级第 6 单元试卷

#### 一、选择。

1. 一筐橘子连筐重  $30$  千克，筐重  $3$  千克，橘子的重量是( )千克。  
A.  $33$     B.  $27$     C.  $30$
2.  $1$  千克苹果大约有( )个。  
A.  $8$     B.  $28$     C.  $80$
3. 倩倩的身高大约是  $131$ ( )。  
A. 米    B. 千克    C. 克    D. 厘米
4.  $10$  千克铁和  $10$  千克棉花相比，( )。  
A.  $10$  千克铁重    B. 同样重  
C.  $10$  千克棉花重    D. 无法比较
5.  $2$  只鸭子的重量等于  $3$  只鸡的重量，已知  $1$  只鸭重  $3$  千克， $1$  只鸡重( )。  
A.  $3$  千克    B.  $4$  千克    C.  $2$  千克

#### 二、填空。

1.  $1$  袋精盐重  $500$  克， $2$  袋精盐重( )克，正好是( )千克。
2.  $1$  个  $2$  分硬币约重( )克，( )个  $2$  分硬币约重  $1$  千克，所以  $1$  千克=( )克。
3. 比  $56$  千克多  $9$  千克是( )千克， $81$  千克比  $23$  千克多( )千克。

不想每次到处找资料? 那就添加张老师微信: 862325

4. 4500 克=( )千克( )克      6543 克=( )千克( )克

5. 一个大冬瓜约重 6( )。一个菠萝大约重 700( )。

### 三、应用。

- 1 千克水果糖平均装两袋，5 千克水果糖可以装多少袋?8 袋这样的水果糖重多少千克?
- 商店把 20 千克软糖，36 千克硬糖混合在一起平均装在 8 个袋子里，每袋装多千克?
- 养鸡场第一季度产蛋 2568 个，第二季度比第一季度少产蛋 168 个，第二季度产蛋多少个?

## 小学数学二年级第 7 单元试卷

### 一、看谁拿的礼物多。

$100 - 23 =$

$2300 + 900 =$

$76 - 47 =$

$60 + 27 =$

$26 + 34 =$

$43 + 48 =$

$3 + 89 =$

$90 - 28 =$

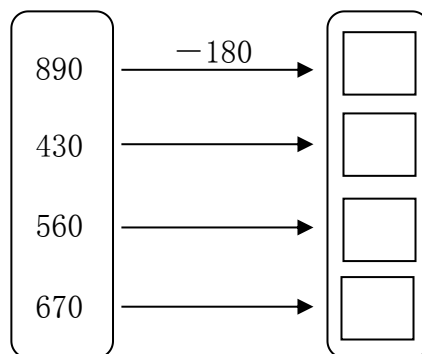
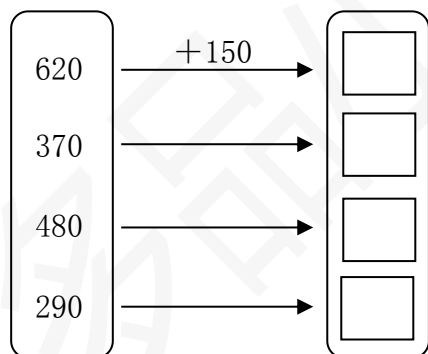
$77 - 45 =$

$82 - 57 =$

$420 - 80 =$

$46 + 52 =$

### 二、



### 三、在○里填上“<”“>”“=”。

$280 + 300 \bigcirc 280 + 30$

$6400 - 400 \bigcirc 6300 - 400$

$750 + 40 \bigcirc 40 + 750$

$960 - 80 \bigcirc 960 - 100$

### 四、森林医生。(对的画“√”，错的画“×”，并改正。)

不想每次到处找资料? 那就添加张老师微信: 862325


$$\begin{array}{r} 380 \\ + 270 \\ \hline 550 \end{array}$$

( )



$$\begin{array}{r} 460 \\ - 190 \\ \hline 370 \end{array}$$

( )



五、把下列算式按得数大小，从小到大排一行

$600 - 320$

$750 - 660$

$47 + 46$

$140 + 190$

\_\_\_\_\_ < \_\_\_\_\_ < \_\_\_\_\_ < \_\_\_\_\_

六、从 160、720、250 中任取两个数，能组成多少个加、减算式？在下面写出来，并计算。

$$\begin{array}{r} 160 \\ + 720 \\ \hline \end{array}$$

要想都写齐，可要好好动动脑筋呀！

七、估一估。

一、二年级人数统计表

年级	人数 (人)
一年级	248
二年级	203









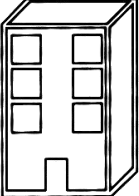
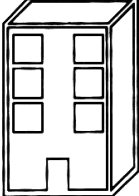
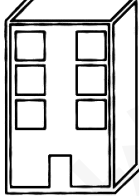
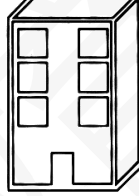
(1) 一年级人数接近 ( ) 人，二年级人数大约 ( ) 人。

(2) 一、二年级大约共有 ( ) 人，一年级

比二年级大约多（ ）人。

(3) 你估算的结果和其他同学都一样吗？

八、估一估，连一连。

 97 + 503	 395 + 102	 102 + 289	 403 + 307
 1000 - 299	 698 - 99	 549 - 150	 719 - 221
 得数接近 400	 得数大约 500	 得数接近 600	 得数大约 700

九、







(1) 第一辆车比第二辆车可多乘多少人？ \_\_\_\_\_

(2) 今天参加“广州一日游”的旅客有 70 人，租这两辆车够吗？你是怎么想的？

十、育才学校二年级有 5 个班，共有学生 210 人，每班要选 8 人参加跳绳比赛，二年级没有参加跳绳比赛的有多少人？

十一、

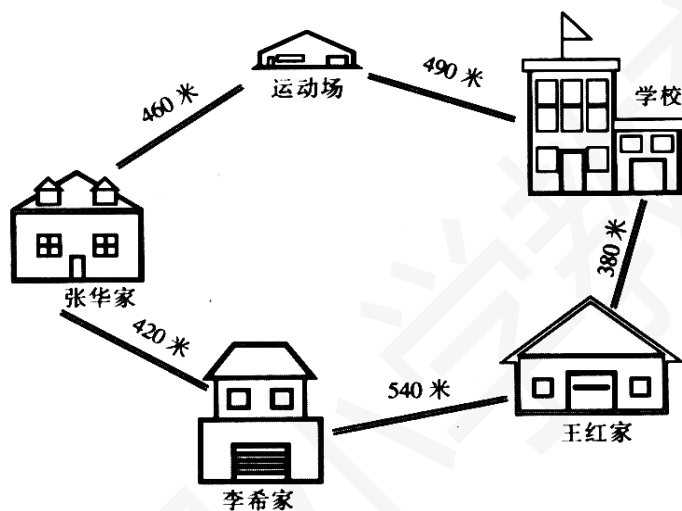
			
原价：320 元 现价：280 元	原价：190 元 现价：110 元	原价：430 元 现价：370 元	原价：850 元 现价：760 元

不想每次到处找资料？那就添加张老师微信：862325

(1) 现在买一台  比原来节省了多少钱？

(2) 妈妈带了 300 元，买  和  够不够？

十二、



(1) 张华从家经过运动场到学校，需要走多少米？

(2) 李希家和张华家哪个离学校近些？近多少米？


(3) 你还能提出的哪些数学问题，并试着解答。

## 小学数学二年级第 8 单元试卷

完成统计。

1. 气象小组把 6 月份的天气作了如下记录：

不想每次到处找资料？那就添加张老师微信：**862325**



(1) 把晴天、雨天、阴天的天数分别填在下面的统计表中。

天气名称	晴天	雨天	阴天
天数			

(2) 从上表中可以看出：这个月中( )的天数最多，( )的天数最少。


(3) 这个月中阴天有( )天。

(4) 这个月中晴天比雨天多( )天。

(5) 这个月中阴天比雨天多( )天。

(6) 你还能提出什么问题？

种 类	客 车	货 车	面包车	小轿车
辆数 (辆)	20	15	35	40



2. 根据统计表完成统计并回答下面提出的问题。

(1) 每个□表示( )辆车。

(2) 小轿车比客车多( )辆。

(3) ( )最少，( )最多。


(4) 货车和面包车相差( )辆。

(5) 客车和货车的总辆数和( )同样多。

(6) 这四种车一共有( )辆。

3. 下面是森林动物园小动物的数量统计情况。





- (1)小刺猬有( )只;  
小象有( )只;  
小猴子有( )只。
- (2)小猴子的只数是小刺猬的( )倍。  
□ ○ □=□
- (3)小象的只数是小猴子的( )倍。  
□ ○ □=□
- (4)小象的只数是小刺猬的( )倍。  
□ ○ □=□
- (5)这些小动物一共有( )只。  
□ ○ □=□

4. 请你和你的小伙伴一起合作统计一下本班同学选择课外小组的情况，并将结果填到下表中。

种类	航模组	书法组	羽毛球组	舞蹈组	绘画组	篮球组	围棋组

- (1)我最喜欢( )小组。
- (2)喜欢( )小组的人数最多。
- (3)喜欢( )小组的人数最少。
- (4)选择羽毛球组的有( )人。
- (5)选择篮球组的有( )人。
- (6)你对学校开展的课外小组有什么好的建议?

5. 学校组织过的几次体检?视力情况怎样?请你选择一年级、四年级和六年级各一个班来填写统计表。

	5.0 以上	4.9~4.7	4.6~4.3	4.2 以下
一年级 ( ) 班				
四年级 ( ) 班				
六年级 ( ) 班				

- (1)一年级 5.0 以上有( )人。
- (2)六年级 5.0 以上有( )人。
- (3)四年级 4.2 以下有( )人。

不想每次到处找资料? 那就添加张老师微信: 862325

- (4)六年级( )的人数最多。  
 (5)5.0的视力是正常的,低于5.0的一年级的有( )人;六年级的有( )人。  
 (6)从统计表中你还可以得到哪些信息?

## 小学数学二年级第9单元试卷

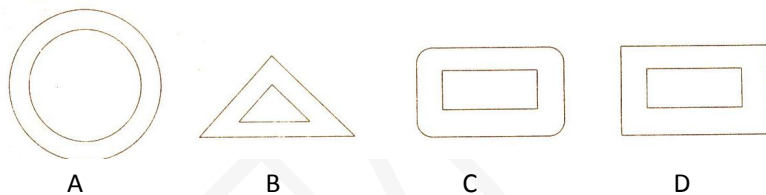
### 一、选择。

1. 与其他三组排列规律不同的数列是( )。  
 A. 1, 4, 7, 10, 13, 16    B. 2, 4, 6, 8, 10, 12  
 C. 2, 3, 5, 8, 13, 21    D. 11, 15, 19, 23, 27, 31
2. 观察下图,空格处应填写的是( )。

G	H	P
P	G	H
H		G


- A.G                      B.H                      C.P

3. 下面的四个图形中与其他三个不同的是( )。



4. 有一串彩灯,排列的规律是4红、3黄、2绿、4红、3黄、2绿、……第二十五盏灯是( )颜色。  
 A. 红色    B. 黄色    C. 绿色

5. 右图空白处小方形框中应填下面图形中的哪一个?把它找出来。( )






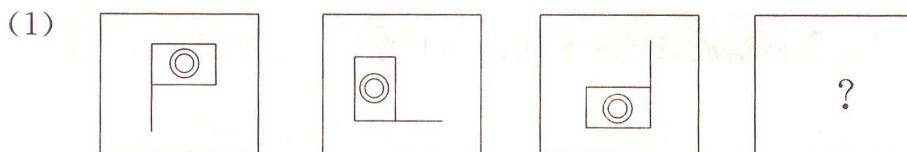
### 二、填空。

1. 按规律填出下面括号中的数。

- (1) 4, 5, 7, 10, ( ), ( ), ...  
 (2) 1, 2, 5, 10, ( ), ( ), ...  
 (3) 1, 2, 4, 5, 7, 8, 10, ( ), ( ), ...  
 (4) 19, 9, 17, 8, 15, 7, ( ), ( ), ...  
 (5) 2, 5, 6, 9, 10, 13, 14, ( ), ( ), ...  
 (6) 18, 9, 10, 5, 6, ( ), ( ), ...

不想每次到处找资料?那就添加张老师微信: 862325

2. 按规律画一画。



## 小学数学二年级第 10 单元试卷

一、选择。


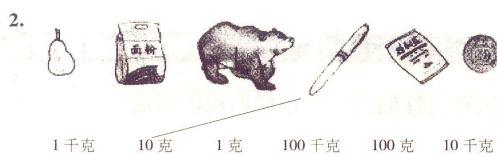

- 两个 2 相加与两个 2 相乘比较, 结果( )。  
A. 两个 2 相加大    D. 两个 2 相乘大    C. 一样大    D. 无法比较
- 10 个千是( )。  
A. 一万    B. 一千    C. 一百
- 6 个一和 8 个千组成的数是( )位数。  
A. 三    U. 四    C. 五    n 两
- 3 个百和 50 个十合并起来是( )。  
A. 350    B. 503    C. 53    D. 800
- 称一口猪的重量用( )做单位。  
A. 米    B. 厘米    C. 千克    D. 克
- 甲数比乙数少 40, 甲数是 60, 那么, 甲、乙两数的和是( )。  
A. 140    B. 160    C. 60    D. 40

二、填空。

不想每次到处找资料? 那就添加张老师微信: 862325

- 下面各数最接近 200 的数是(      ), 它与 275 的和是(      ), 它与(      )的和是 275。  
467    192    185    83
- 用 1, 4, 0 组成的一个最大的三位数是(      ), 最小的三位数是(      ), 它们相差(      )。
- 读 2004 时要读(      )个零, 读 3600 时(      )零。
- 一个四位数, 百位上是 0, 十位上是 2, 其余数位上都是 6, 这个数是 (      )。
- 497 的近似数是(      ), 901 的近似数是(      )。

三、连线。



别人都在用资料了, 而你还在找?

电子版  
全免费



无需分享  
直接给

- No. 1 课文同步练习题。
- No. 2 单元, 月考, 期中, 期末测试卷, 考试卷, 真题卷
- No. 3 课文、单元、全册知识点总结归纳整理。
- No. 4 课文教案, 课件, 课文同步朗读MP3。
- No. 5 考前知识点总结, 重点知识勾画。
- No. 6 字词句, 阅读理解, 看图写话等解题思路分析  
附答题思路模式。
- No. 8 语文数学考试必考知识点, 易错常错点专业分析  
针对练习。

**一辈子、一件事。专注小学教育!**

第一步:

收集大多数家长需要的资料。  
并且免费分享给大家。

不想每次到处找资料? 那就添加张老师微信: 862325