

# 认识时间练习题

学号 \_\_\_\_\_ 班级 \_\_\_\_\_ 姓名 \_\_\_\_\_

## 一、基础训练

1. 数一数：钟面上有（ ）个数，这些数把钟面分成了（ ）个相等的大格，每个大格又分成了（ ）个相等的小格，算一算钟面上一共有多少个小格？

2. 看一看：钟面上的又细又长的针叫（ ）针，又短又粗的针叫（ ）针。


3. 想一想：时针走一大格，也就是（ ）小时。时针走一大格时，分针正好走（ ）圈，是（ ）分钟，1时=（ ）分。

## 二、连线。



7 时 10 分      1 时 50 分      3 时 40 分      5 时 35 分      12 时 5 分

## 三、下面的钟面各是什么时刻？



\_\_\_\_ 时 \_\_\_\_ 分      \_\_\_\_ 时 \_\_\_\_ 分      \_\_\_\_ 时 \_\_\_\_ 分      \_\_\_\_ 时 \_\_\_\_ 分

\_\_\_\_\_ : \_\_\_\_\_

一、写出下面的时间。



过 10 分是



过 6 分是



过 5 分是




过 10 分是



过 5 分是



再过 5 分是



再过 5 分是



再过 10 分是



再过 30 分是



过一小时是




前一小时是

不想每次到处找资料？那就添加张老师微信：**862325**


一、填一填

1.




( ) 时 ( ) 分

:




( ) 时 ( ) 分

:




( ) 时 ( ) 分

:




\_\_\_\_\_

\_\_\_\_\_




\_\_\_\_\_

\_\_\_\_\_




\_\_\_\_\_


\_\_\_\_\_



\_\_\_\_\_



\_\_\_\_\_

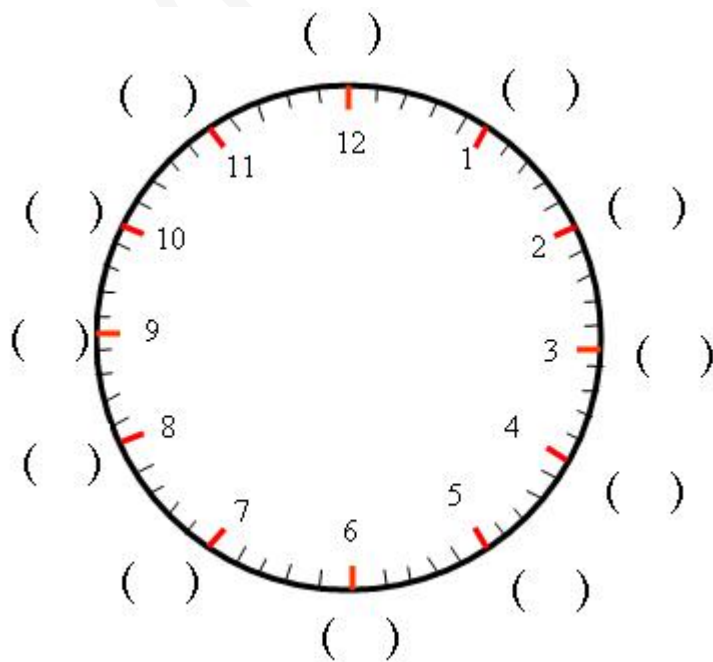


\_\_\_\_\_

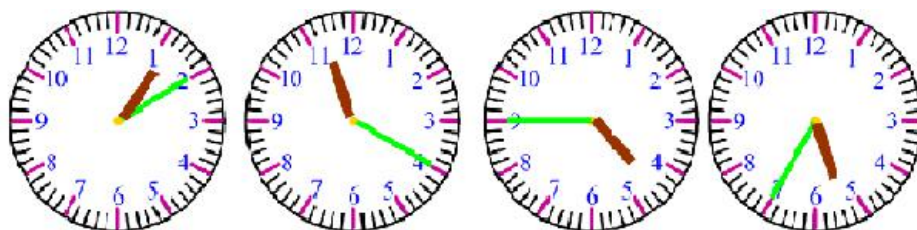
一、填空：

- 1、时针从一个数走到下一个数的时间是（ ），也就是走一大格的时间是（ ）。
- 2、分针走一小格的时间是（ ），分针走一大格的时间是（ ）。
- 3、时针走一大格，分针正好走（ ）圈，也就是（ ）分，所以说1时 = （ ）分。
- 4、时针从“2”走到“5”走了（ ）大格，也就是（ ）时；分针从“2”走到“5”走了（ ）大格，也就是（ ）分钟。

二、我能填出钟面上每个数所表示的分钟数。



三、连一连：



四、我会写出钟面上的时刻：



\_\_\_\_\_

\_\_\_\_\_



\_\_\_\_\_

\_\_\_\_\_



\_\_\_\_\_

\_\_\_\_\_

五、写出下面各钟面上的时间。

( ) ( ) ( ) ( )

别人都在用资料了，而你还在找？

电子版  
全免费



无需分享  
直接给

- No. 1 课文同步练习题。
- No. 2 单元, 月考, 期中, 期末测试卷, 考试卷, 真题卷
- No. 3 课文、单元、全册知识点总结归纳整理。
- No. 4 课文教案, 课件, 课文同步朗读MP3。
- No. 5 考前知识点总结, 重点知识勾画。
- No. 6 字词句, 阅读理解, 看图写话等解题思路分析  
附答题思路模式。
- No. 8 语文数学考试必考知识点, 易错常错点专业分  
析针对练习。

**一辈子、一件事。专注小学教育！**

第一步：

收集大多数家长需要的资料。  
并且免费分享给大家。

不想每次到处找资料？那就添加张老师微信：**862325**